



おおきいかず 16

◎ 2けたと1けたのひきざん

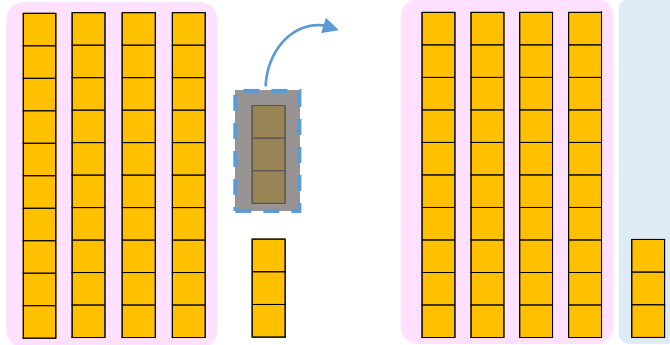


日にち： 月 日

名まえ _____

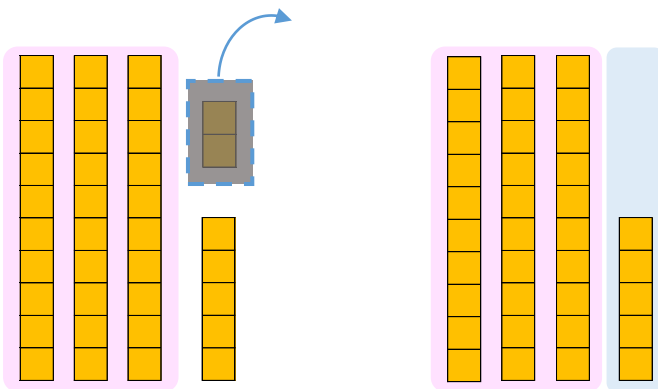
- にかずをかきましょう。(うすいじはなぞりましょう。)

① 46から3をひいたかずは です。



しき： $46 - 3 = \square$

② 37から2をひいたかずは です。



しき： $37 - 2 = \square$





おおきいかず 16

● 2けたと1けたのひきざん

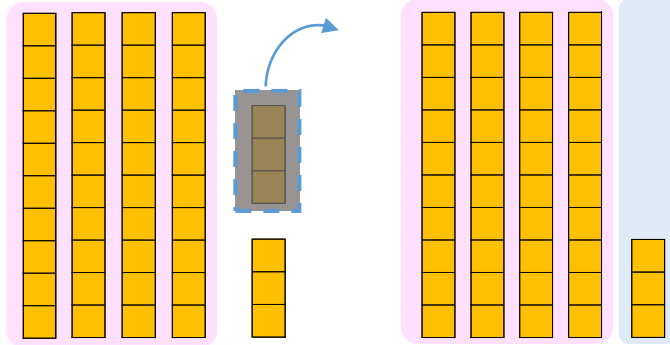


日にち： 月 日

名まえ _____

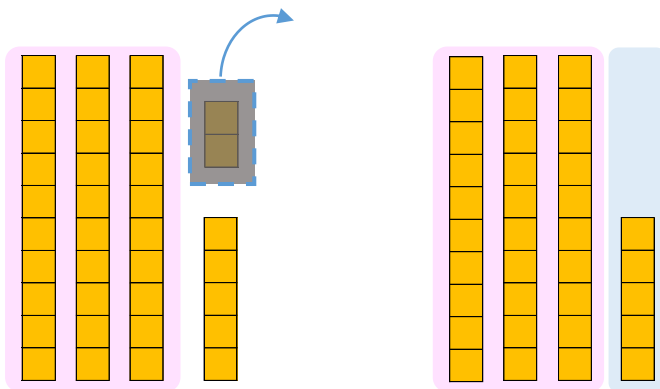
- にかずをかきましょう。(うすいじはなぞりましょう。)

① 46から3をひいたかずは **43** です。



$$\text{しき： } 46 - 3 = 43$$

② 37から2をひいたかずは **35** です。



$$\text{しき： } 37 - 2 = 35$$

