



3つの かずのけいさん！

◎3つのかずのたしざんを
しきにあらわしてみよう



日にち： 月 日

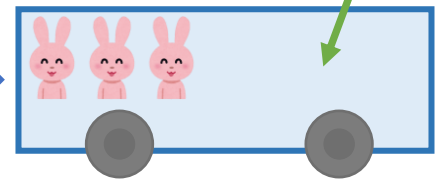
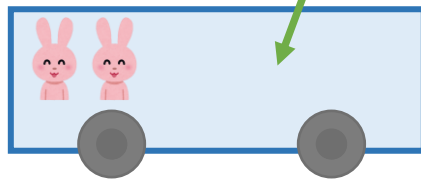
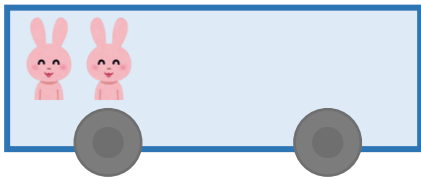
名まえ _____

- うさぎは、みんなでなんびきになりましたか。
(うすいじはなぞりましょう。)

2ひきのっています。

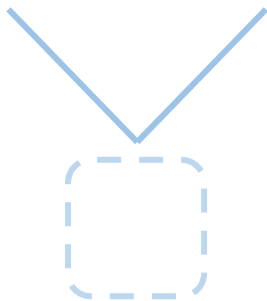
1ひきのります。

2ひきのります。



☆1つのしきにあらわしてみましよう。

しき： $\begin{array}{|c|} \hline \text{■} \text{■} \\ \hline \boxed{2} \\ \hline \end{array} + \begin{array}{|c|} \hline \text{■} \\ \hline \boxed{} \\ \hline \end{array} + \begin{array}{|c|} \hline \text{■} \text{■} \\ \hline \boxed{} \\ \hline \end{array} = \begin{array}{|c|} \hline \text{■} \text{■} \text{■} \text{■} \\ \hline \boxed{} \\ \hline \end{array}$



こたえ： ひき



3つの かずのけいさん！

◎3つのかずのたしざんを
しきにあらわしてみよう



日にち： 月 日

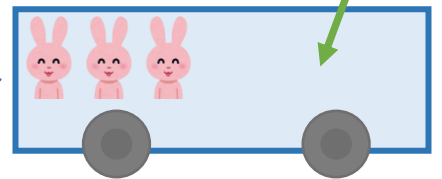
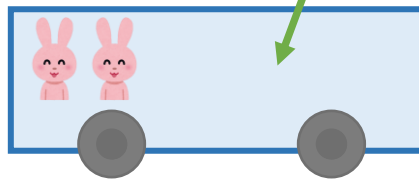
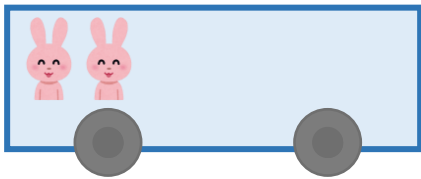
名まえ _____

- うさぎは、みんなでなんびきになりましたか。
(うすいじはなぞりましょう。)

2ひきのっています。

1ひきのります。

2ひきのります。



☆1つのしきにあらわしてみましよう。

しき： $\begin{array}{c} \text{■} \text{■} \\ \boxed{2} \end{array} + \begin{array}{c} \text{■} \\ \boxed{1} \end{array} + \begin{array}{c} \text{■} \text{■} \\ \boxed{2} \end{array} = \begin{array}{c} \text{■} \text{■} \text{■} \text{■} \\ \boxed{5} \end{array}$

3

こたえ： $\boxed{5}$ ひき