



3つの
かずのけいさん 4


3つのかずのたしひきの
ぶんしょうもんだい



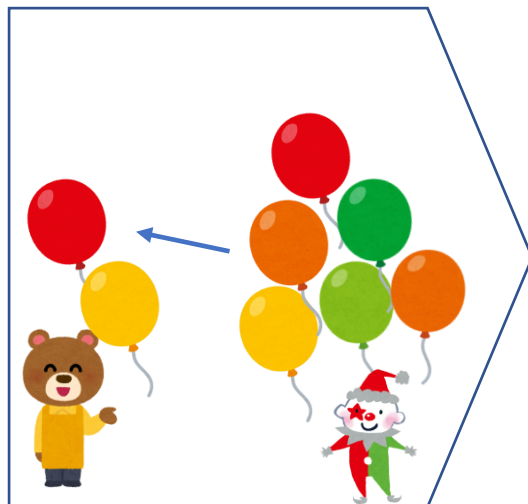
日にち： 月 日

名まえ _____

1 ふうせんは、なんこになりましたか。(うすいじはなぞりましょう。)



2こあります。



6こもらいました。



5こあげました。

しき：

+ - =

こたえ：

2 こどもがこうえんに5にんいます。2にんかえり
ました。そのあと6にんきました。
こどもはなんにんになりましたか。

しき：

こたえ：





3つの かずのけいさん 4


3つのかずのたしひきの
ぶんしょうもんだい



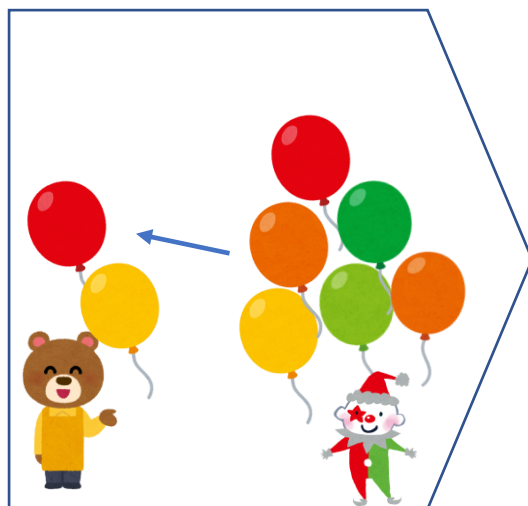
日にち： 月 日

名まえ _____

1 ふうせんは、なんこになりましたか。(うすいじはなぞりましょう。)



2こあります。



6こもらいました。



5こあげました。

しき：

$$2 + 6 - 5 = 3$$

こたえ：

3こ

2 こどもがこうえんに5にんいます。2にんかえり
ました。そのあと6にんきました。
こどもはなんにんになりましたか。

しき：

$$5 - 2 + 6 = 9$$

こたえ：

9にん

