



# おおきいかず 12

● 30と5をあわせた数

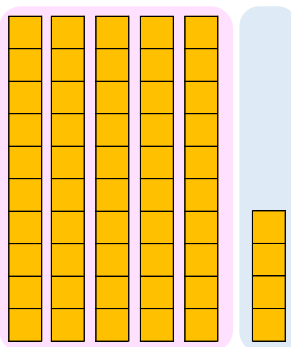


日にち：            月            日

名まえ \_\_\_\_\_

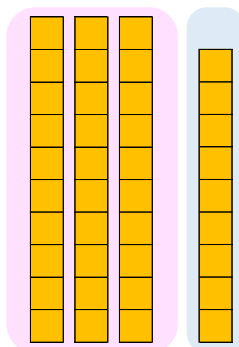
- にかずをかきましょう。(うすいじはなぞりましょう。)

① 50と4をあわせたかずは  です。



しき：  $50 + 4 =$

② 30と9をあわせたかずは  です。



しき：  $30 + 9 =$





# おおきいかず 12

● 30と5をあわせた数

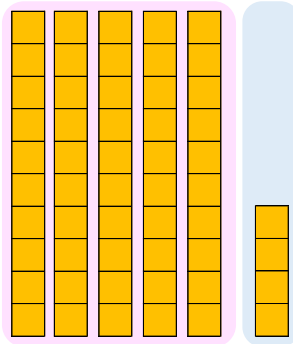


日にち：            月            日

名まえ \_\_\_\_\_

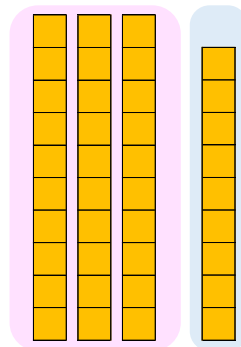
- にかずをかきましょう。(うすいじはなぞりましょう。)

① 50と4をあわせたかずは **54** です。



$$\text{しき} : 50 + 4 = \mathbf{54}$$

② 30と9をあわせたかずは **39** です。



$$\text{しき} : 30 + 9 = \mathbf{39}$$

