



おおきいかず 15

◎ 33 から 3 をひいた数

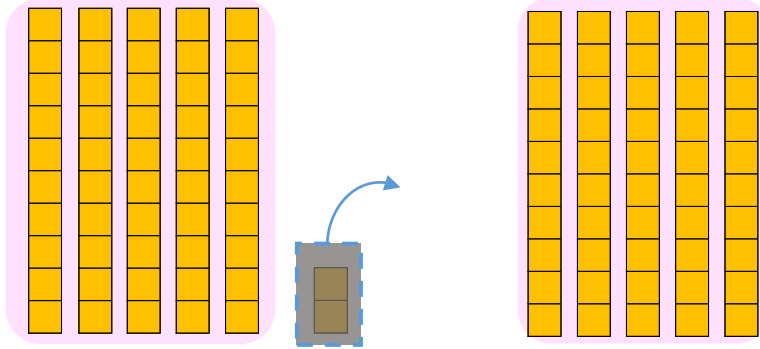


日にち： 月 日

名まえ _____

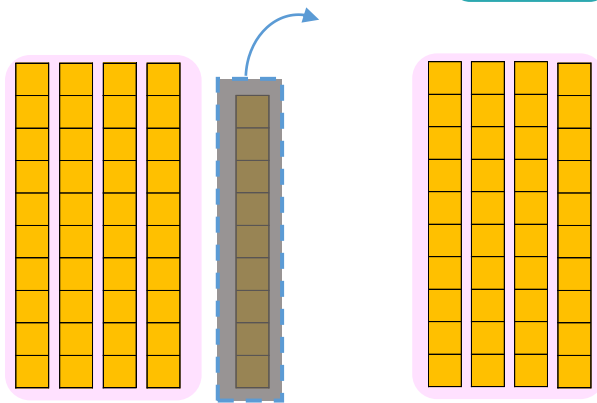
- にかずをかきましょう。(うすいじはなぞりましょう。)

① 52から2をひいたかずは です。



しき： $52 - 2 =$

② 49から9をひいたかずは です。



しき： $49 - 9 =$





おおきいかず 15

◎ 33 から 3 をひいた数

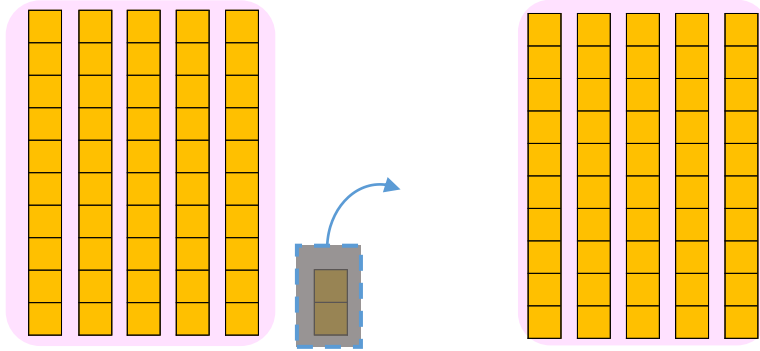


日にち： 月 日

名まえ _____

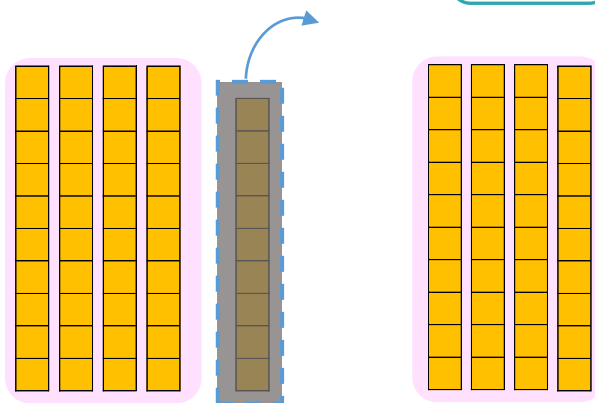
- にかずをかきましょう。(うすいじはなぞりましょう。)

① 52から2をひいたかずは **50** です。



$$\text{しき} : 52 - 2 = \mathbf{50}$$

② 49から9をひいたかずは **40** です。



$$\text{しき} : 49 - 9 = \mathbf{40}$$

