



# あわせていくつ4

◎ あとから ふえる





日にち：            月            日

名まえ \_\_\_\_\_

・ しきにかいて こたえましょう。(うすいじはなぞりましょう。)

① うさぎが 4 ひき いました。あとから 6 ひき きました。  
うさぎは ぜんぶで なんびき になりましたか。



しき

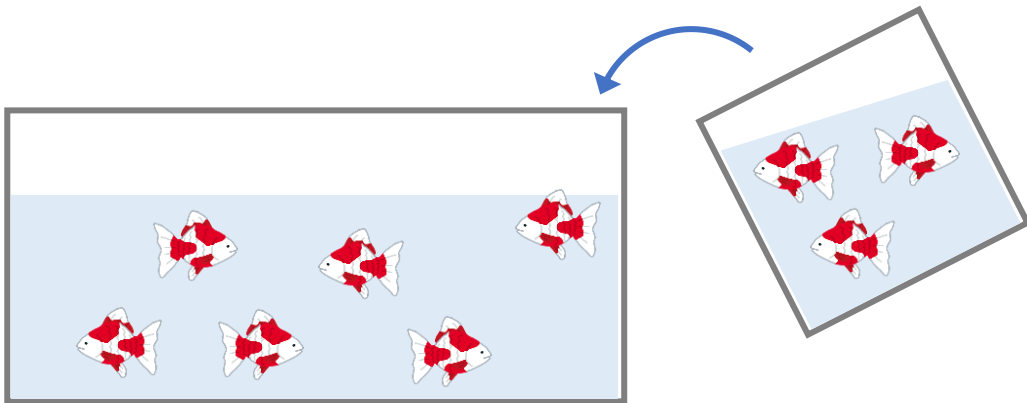
		+			=		
--	--	---	--	--	---	--	--

こたえ

--	--

ぴき

② きんぎょが 6 ひき いました。あとから 3 ひき いれました。  
きんぎょは ぜんぶで なんびき になったでしょう。



しき

--	--	--	--	--	--	--	--

こたえ

--	--

ひき





# あわせていくつ4

◎ あとから ふえる





日にち：            月            日

名まえ \_\_\_\_\_

・ しきにかいて こたえましょう。(うすいじはなぞりましょう。)

① うさぎが 4 ひき いました。あとから 6 ひき きました。  
うさぎは ぜんぶで なんびき になりましたか。



しき

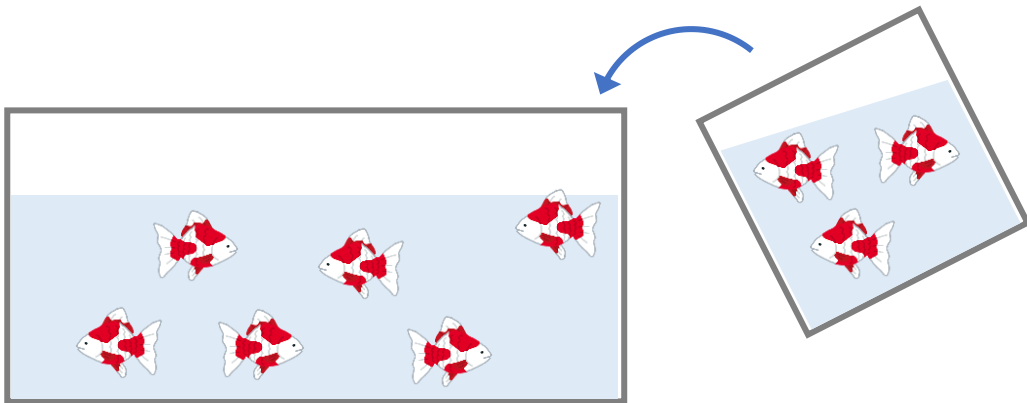
$$4 + 6 = 10$$

こたえ

$$10$$

ひき

② きんぎょが 6 ひき いました。あとから 3 ひき いれました。  
きんぎょは ぜんぶで なんびき になったでしょう。



しき

$$6 + 3 = 9$$

こたえ

$$9$$

ひき

