



# あわせていくつ4

◎ あとからふえる





日にち：            月            日

名まえ \_\_\_\_\_

・ しきにかいて こたえましょう。(うすいじはなぞりましょう。)

① うさぎが 4ひき いました。あとから 6ひき きました。  
うさぎは ぜんぶで なんびき になりましたか。



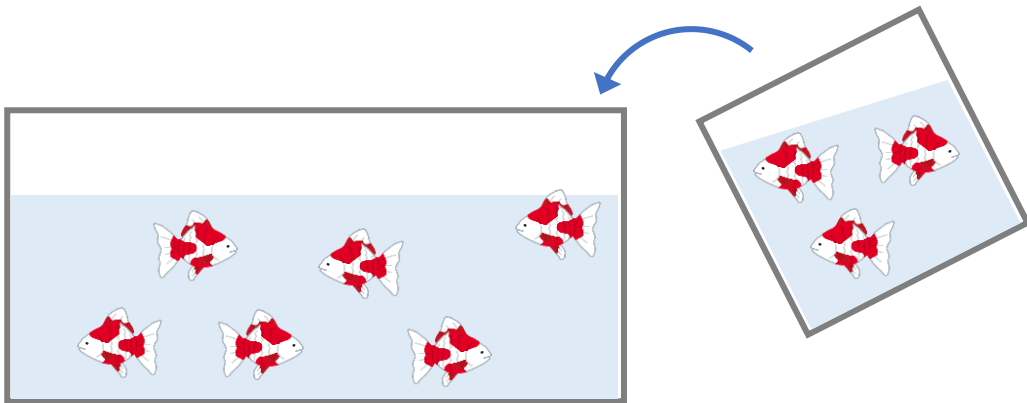
しき

		+			=		

こたえ


ひき

② きんぎょが 6ひき いました。あとから 3ひき いました。  
きんぎょは ぜんぶで なんびき になったでしょう。



しき


こたえ


ひき





# あわせていくつ4

◎ あとから ふえる





日にち：            月            日

名まえ \_\_\_\_\_

・ しきにかいて こたえましょう。(うすいじはなぞりましょう。)

① うさぎが 4ひき いました。あとから 6ひき きました。  
うさぎは ぜんぶで なんびき になりましたか。



しき

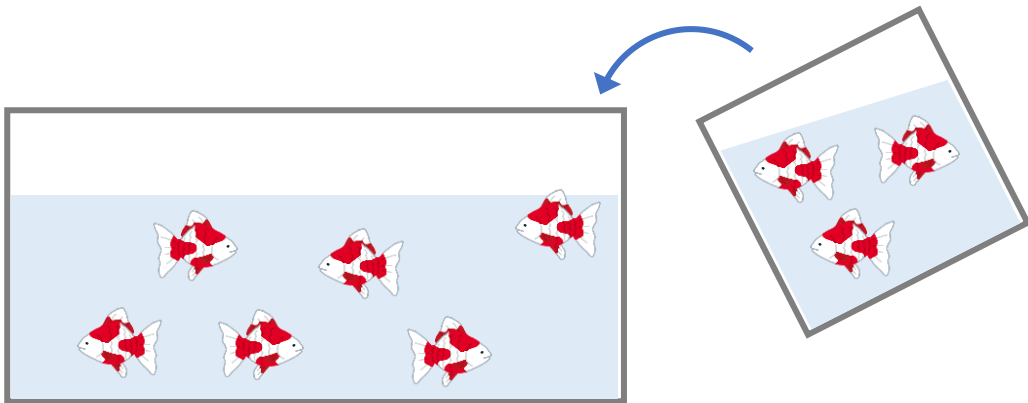
$$4 + 6 = 10$$

こたえ

$$10$$

ひき

② きんぎょが 6ひき いました。あとから 3ひき いました。  
きんぎょは ぜんぶで なんびき になったでしょう。



しき

$$6 + 3 = 9$$

こたえ

$$9$$

ひき

