



のこりはいくつ！

● えをみてかんがえよう

4



日にち： 月 日

名まえ _____

・ きんぎょがいます。すくうとのこりはなんびきでしょう。


(うすいじはなぞりましょう。)

①



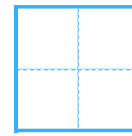
ひき

いる



びき

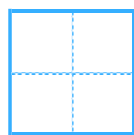


すくう



ひき

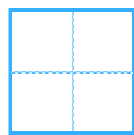
のこり

②



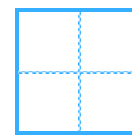
ひき

いる



ひき

すくう



びき

のこり





のこりはいくつ！

● えをみてかんがえよう



4

日にち： 月 日

名まえ _____

- きんぎょがいます。すくうとのこりはなんびきでしょう。
(うすいじはなぞりましょう。)

①


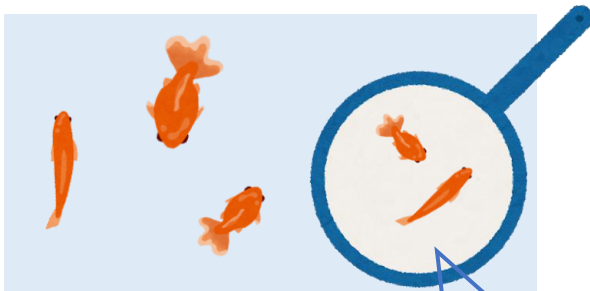


7 ひき
いる

3 びき
すくう

4 ひき
のこり

②



5 ひき
いる

2 ひき
すくう

3 びき
のこり

