

くりあがりのある
たしざん 6

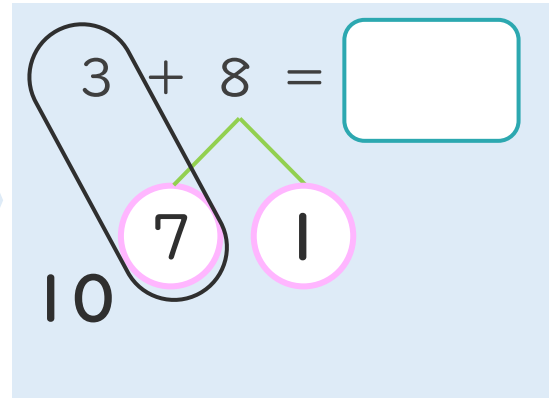
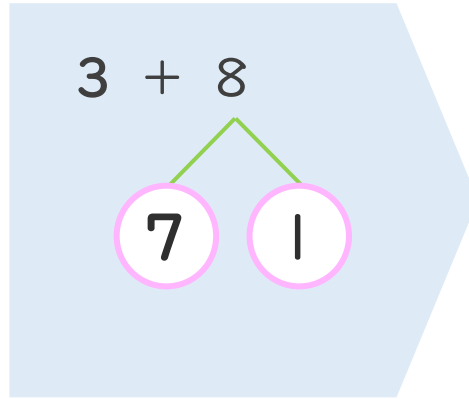
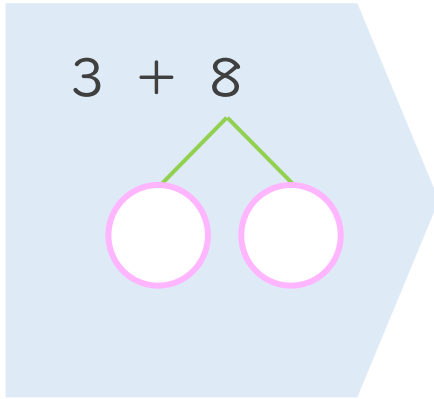
● くりあがりのけいさん
(4や3とたす)



日にち： 月 日

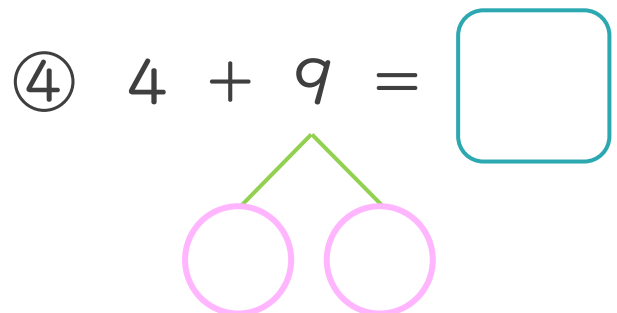
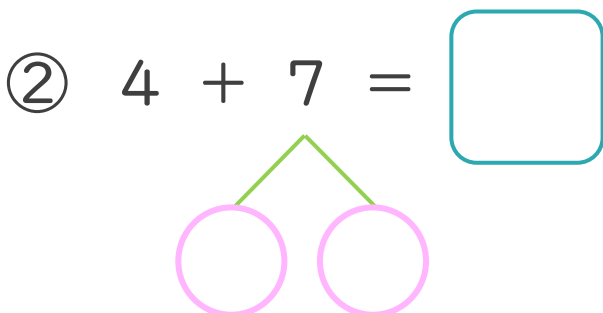
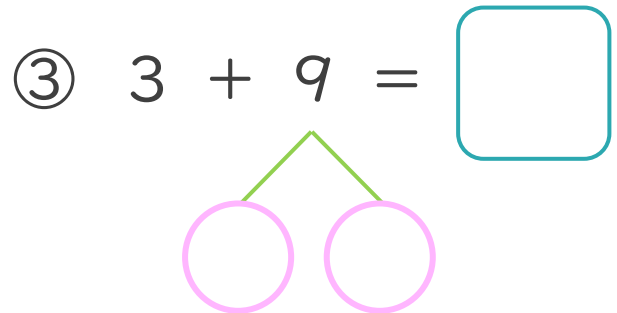
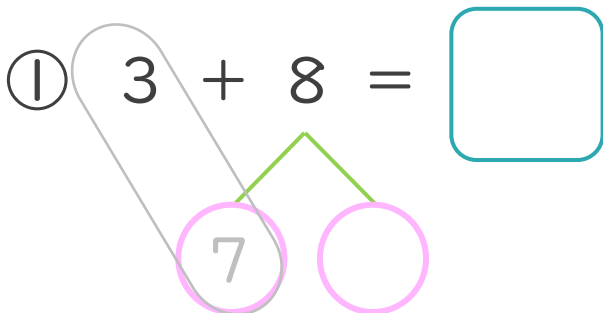
名まえ _____

< 3 + 8 の けいさんの しかた >



- ① 8を
7と1に
わけます。
- ② 3に7を
たして10。
- ③ 10と1で11。

・ けいさんを しまししょう。(うすいじはなぞりまししょう。)





くりあがりのある
たしざん 6

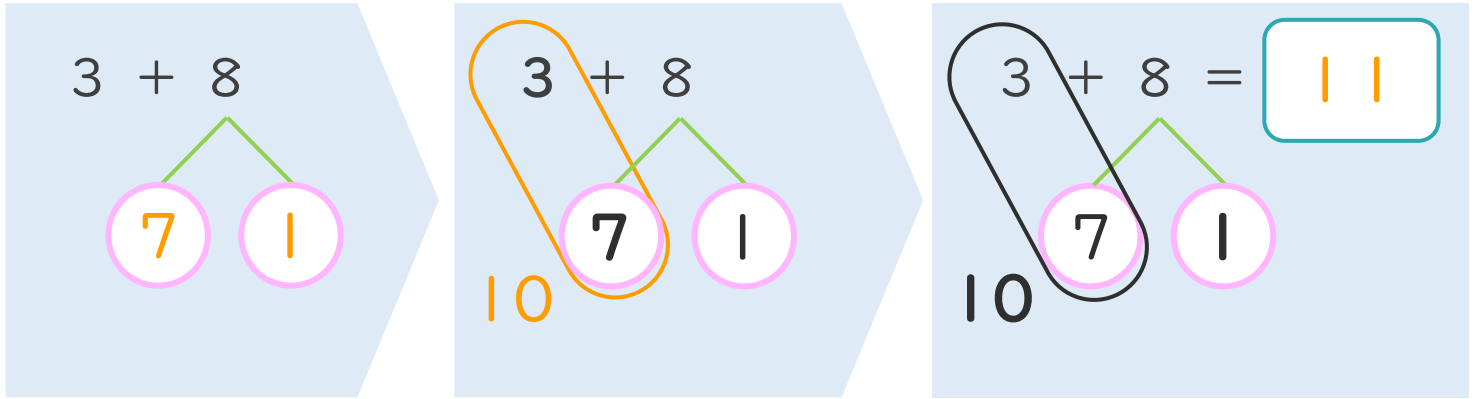
● くりあがりのけいさん
(4や3とたす)



日にち： 月 日

名まえ _____

< 3 + 8 の けいさんの しかた >



- ① 8を
7と1に
わけます。
- ② 3に7を
たして10。
- ③ 10と1で11。

・ けいさんを しましょう。(うすいじはなぞりましょう。)

① $3 + 8 = 11$

③ $3 + 9 = 12$

② $4 + 7 = 11$

④ $4 + 9 = 13$

