



くりあがりのある
たしざん 2

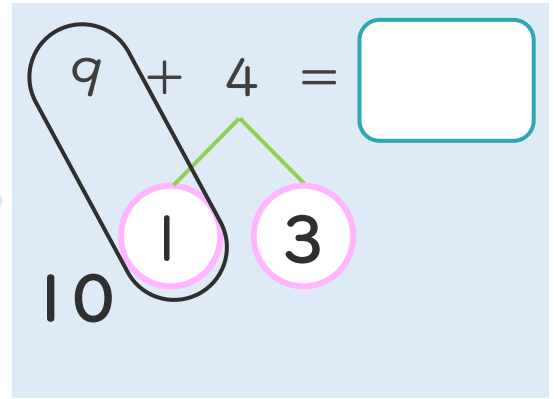
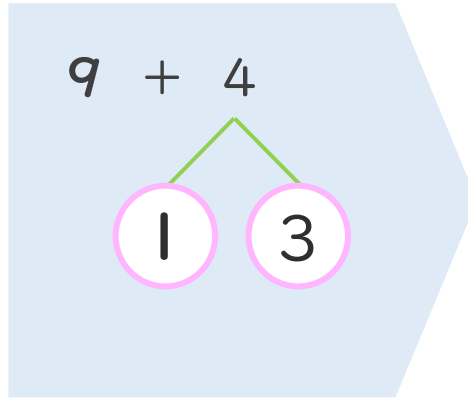
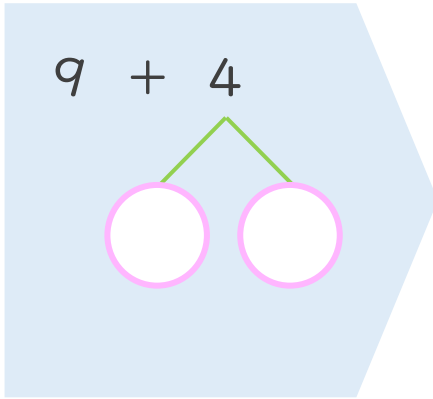
● くりあがりのけいさん
(9 と たす)



日にち： 月 日

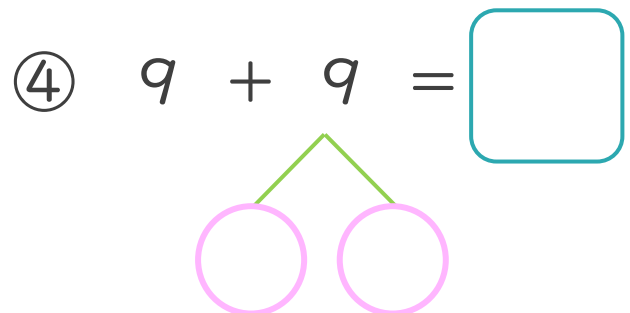
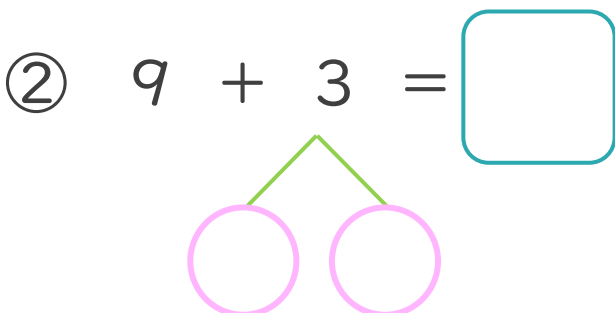
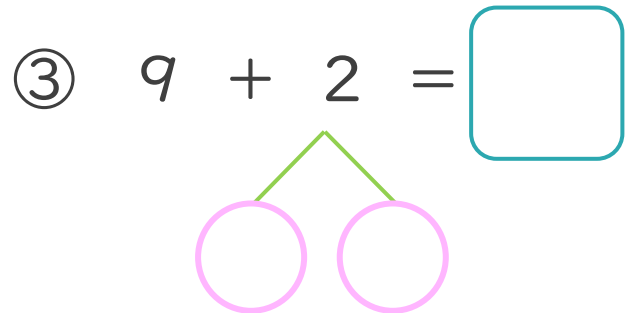
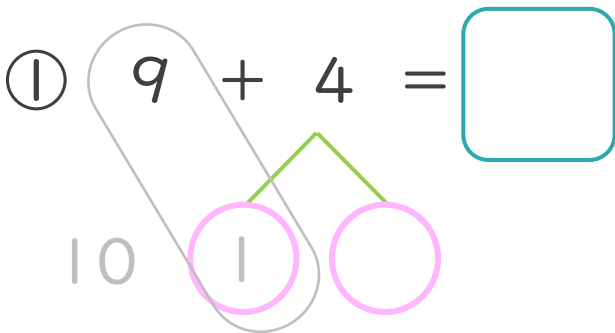
名まえ _____

< 9 + 4 の けいさんの しかた >



- ① 4 を 1 と 3 に わけます。
- ② 9 に 1 を たして 10。
- ③ 10 と 3 で 13。

・ けいさんを しましょう。(うすいじは なぞり しましょう。)





くりあがりのある
たしざん 2

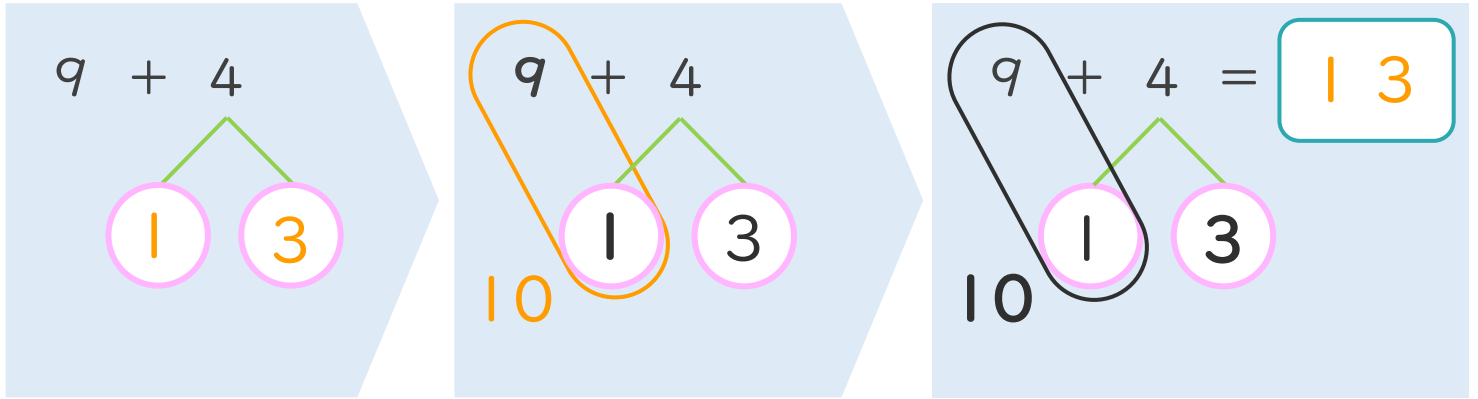
くりあがりのけいさん
(9とたす)



日にち： 月 日

名まえ _____

< 9 + 4 の けいさんの しかた >



- ① 4を
1と3に
わけます。
- ② 9に1を
たして10。
- ③ 10と3で13。

・ けいさんを しまししょう。(うすいじはなぞりまししょう。)

① $9 + 4 = 13$

10 1 3

③ $9 + 2 = 11$

10 1 1

② $9 + 3 = 12$

10 1 2

④ $9 + 9 = 18$

10 1 8

