



くりあがりのある
たしざん 7

● くりあがりのけいさん
(3から9とたす)

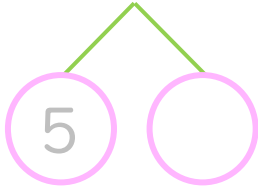


日にち： 月 日

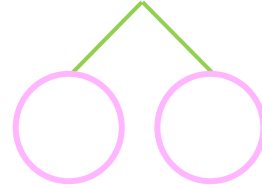
名まえ _____

・ けいさんをしましょう。(うすいじはなぞりましょう。)

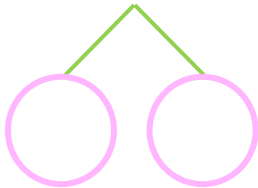
① $5 + 7 = \square$



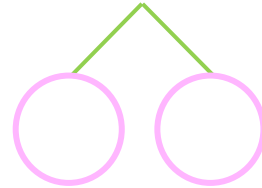
⑤ $5 + 6 = \square$



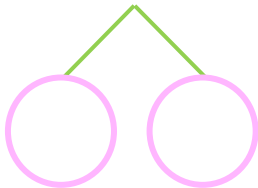
② $8 + 9 = \square$



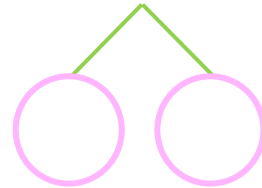
⑥ $8 + 5 = \square$



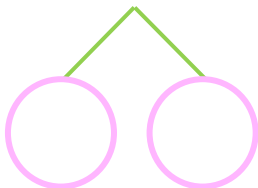
③ $6 + 8 = \square$



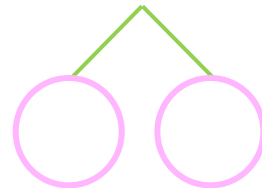
⑦ $7 + 5 = \square$



④ $7 + 6 = \square$



⑧ $9 + 2 = \square$





くりあがりのある
たしざん 7

● くりあがりのけいさん
(3から9とたす)



日にち： 月 日

名まえ _____

・ けいさんをしましょう。(うすいじはなぞりましょう。)

① $5 + 7 = 12$
10 5 2

⑤ $5 + 6 = 11$
10 5 1

② $8 + 9 = 17$
10 2 7

⑥ $8 + 5 = 13$
10 2 3

③ $6 + 8 = 14$
10 4 4

⑦ $7 + 5 = 12$
10 3 2

④ $7 + 6 = 13$
10 3 3

⑧ $9 + 2 = 11$
10 1 1