



くりあがりのある
たしざん 4

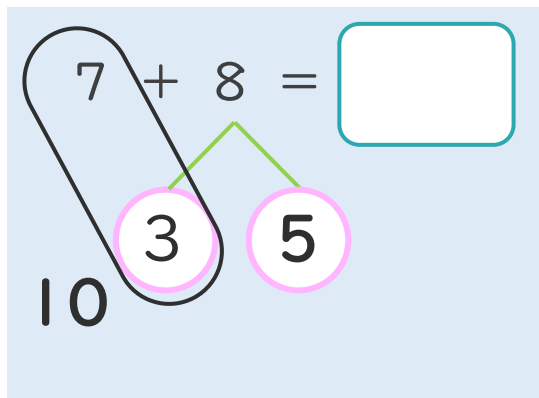
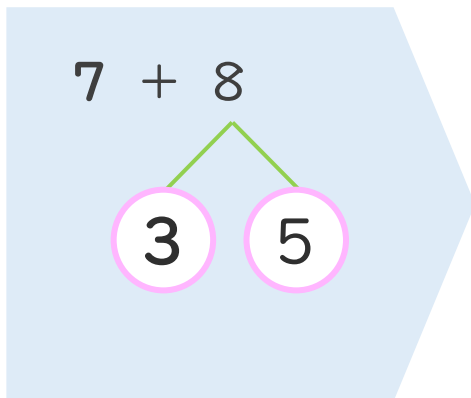
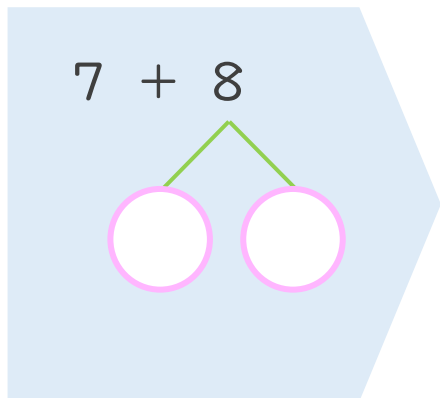
● くりあがりのけいさん
(7とたす)



日にち： 月 日

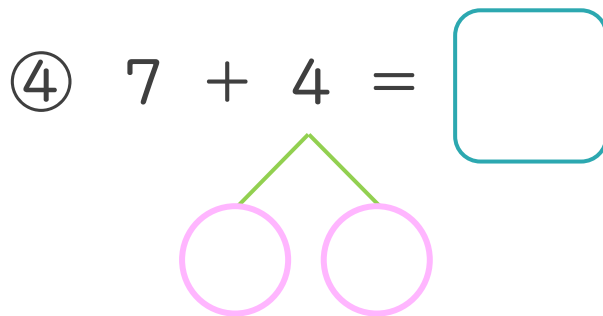
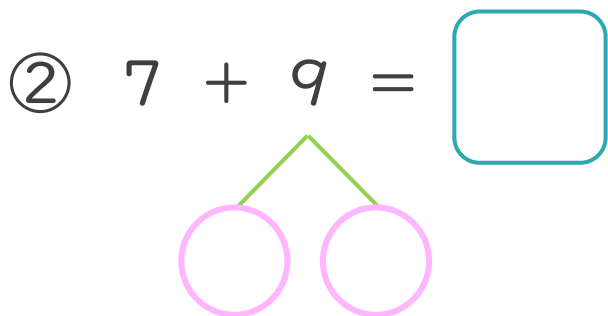
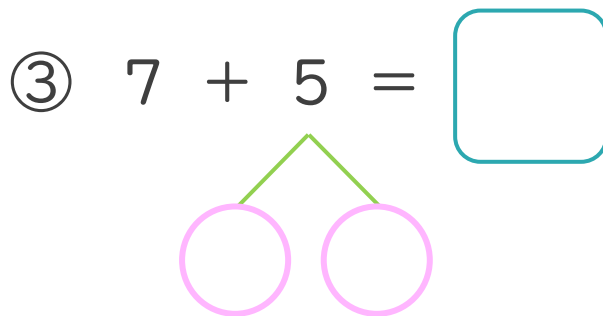
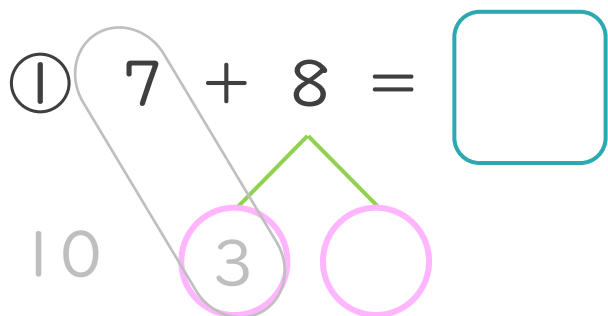
名まえ _____

< 7 + 8 の けいさんの しかた >



- ① 8を
3と5に
わけます。
- ② 7に3を
たして10。
- ③ 10と5で15。

・ けいさんを しましょう。(うすいじはなぞりましょう。)





くりあがりのある
たしざん 4

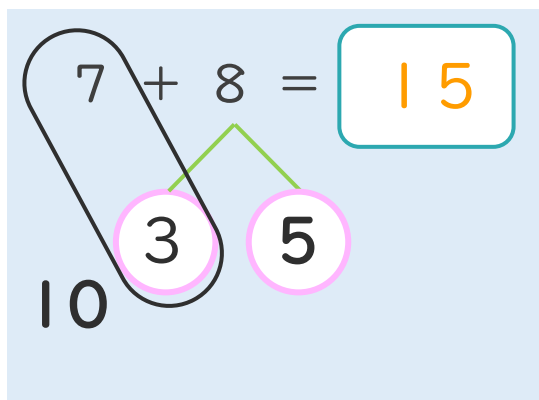
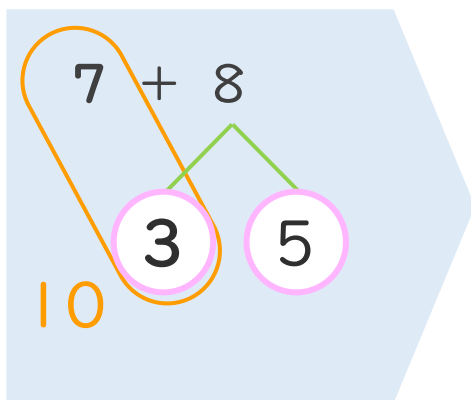
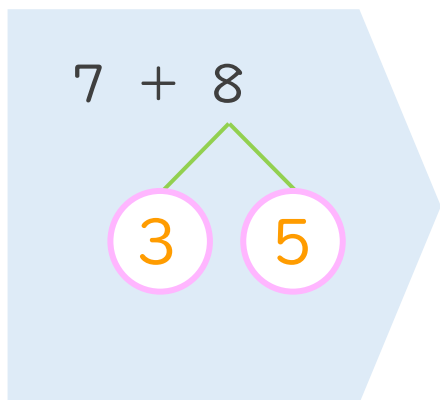
● くりあがりのけいさん
(7とたす)



日にち： 月 日

名まえ _____

< 7 + 8 の けいさんの しかた >



- ① 8を
3と5に
わけます。
- ② 7に3を
たして10。
- ③ 10と5で15。

・ けいさんを しましょう。(うすいじはなぞりましょう。)

