



くりさがりのある
ひきざん 7

● くりさがりのけいさん
(2 から 9 をひく)

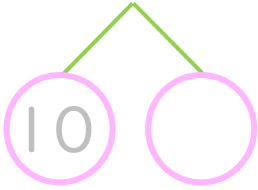


日にち： 月 日

名まえ _____

・ けいさんをしましょう。(うすいじはなぞりましょう。)

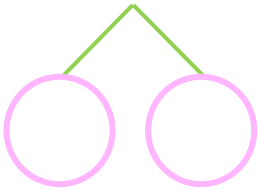
① $15 - 7 = \square$



⑤ $12 - 3 = \square$

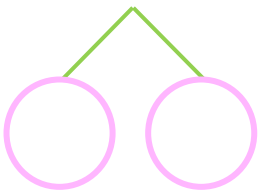


② $17 - 8 = \square$



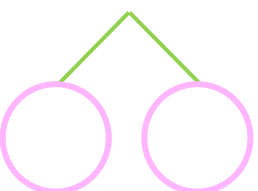
⑥ $12 - 9 = \square$

③ $11 - 5 = \square$



⑦ $13 - 8 = \square$

④ $16 - 9 = \square$



⑧ $14 - 5 = \square$



くりさがりのある
ひきざん 7

● くりさがりのけいさん
(2 から 9 をひく)

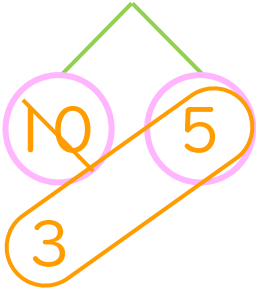
4

日にち： 月 日

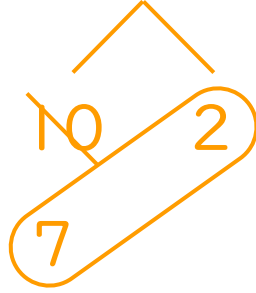
名まえ _____

・ けいさんをしましょう。(うすいじはなぞりましょう。)

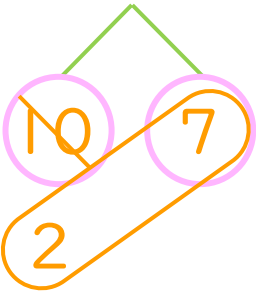
① $15 - 7 = 8$



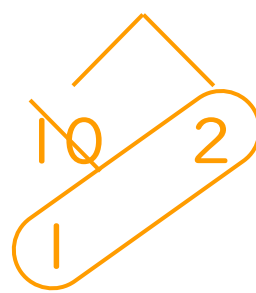
⑤ $12 - 3 = 9$



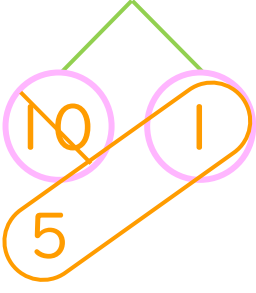
② $17 - 8 = 9$



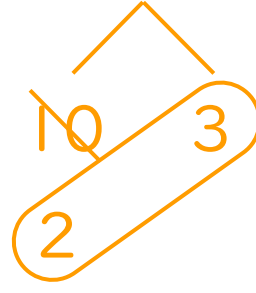
⑥ $12 - 9 = 3$



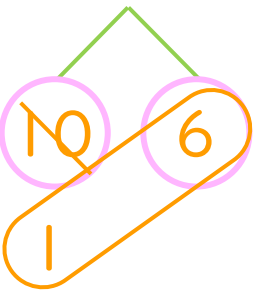
③ $11 - 5 = 6$



⑦ $13 - 8 = 5$



④ $16 - 9 = 7$



⑧ $14 - 5 = 9$

