





# のこりはいくつ？

◎ それぞれの かずと ちがい






日にち：            月            日

名まえ \_\_\_\_\_

・  と  の かずの ちがいは なんこですか。

(うすいじはなぞりましょう。)





①  と  は、それぞれ なんこ ありますか。

 ... 


 こ ,  ... 


 こ

②  と  の かずの ちがいは なんこですか。

しき 


こたえ 


 こ





のこりはいくつ？

◎ それぞれのかずとちがい




日にち： 月 日

名まえ \_\_\_\_\_

- ・ と のかずのちがいはなんこですか。

(うすいじはなぞりましょう。)



- ① と は、それぞれなんこありますか。

... 7 こ , ... 10 こ

- ② と のかずのちがいはなんこですか。

しき 10 - 7 = 3

こたえ 3 こ

