



あわせていくつ？

◎ たしざんの しきの かきかた







日にち： 月 日

名まえ _____

- いちごをあわせるとぜんぶでいくつになるでしょう。(うすいじはなぞりましょう。)

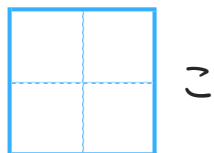
あわせる

ぜんぶで




こ

と



こ

で

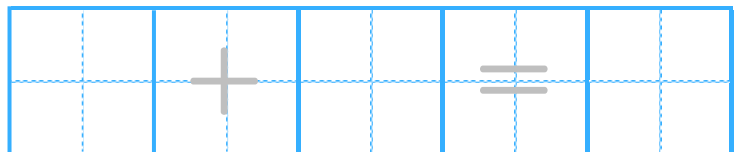


こ

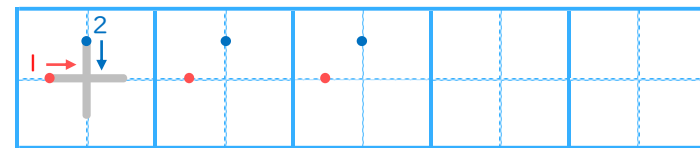
たす

は

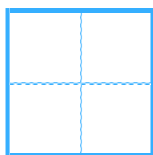
しき



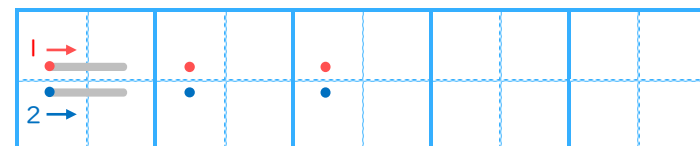
▼ れんしゅうしよう！



こたえ



こ





あわせていくつ2

◎ たしざんの しきの かきかた





日にち： 月 日

名まえ _____

- いちごをあわせるとぜんぶでいくつになるでしょう。(うすいじはなぞりましょう。)

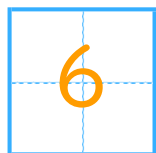
あわせる

ぜんぶで



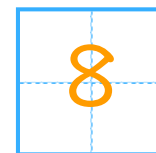
こ

と



こ

で



こ

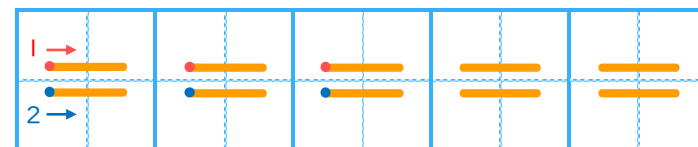
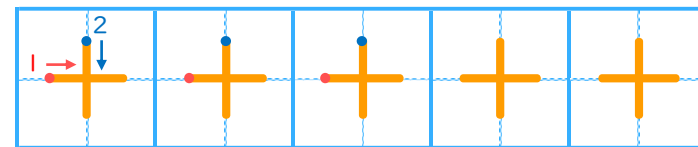
たす

は

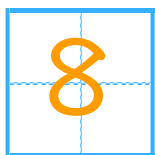
しき

2	+	6	=	8
---	---	---	---	---

▼ れんしゅうしよう!



こたえ



こ

