



あわせていくつ3

◎ たしざんのしきをつくろう



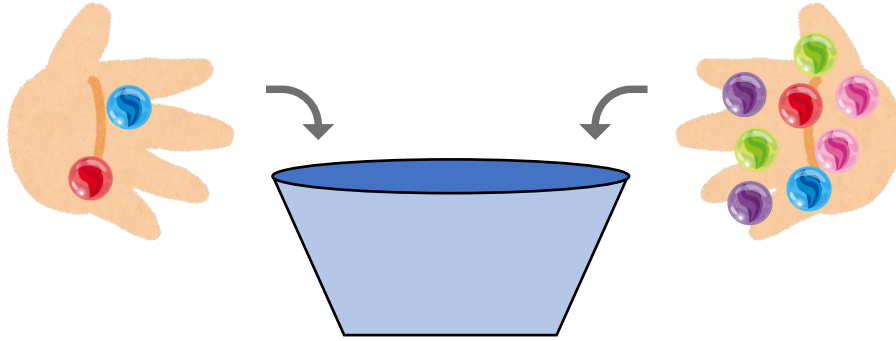
日にち： 月 日

名まえ _____

・ しきにかいてこたえましょう。(うすいじはなぞりましょう。)

① びいだまを 2 こと 8 こいれます。

あわせてなんこになりますか。



しき


		+			=		
--	--	---	--	--	---	--	--

こたえ

こ

② くろいねこが 4 ひき、しろいねこが 3 ひきいます。

ねこはぜんぶでなんひきいますか。



しき

		+			=		
--	--	---	--	--	---	--	--

こたえ

ひき





あわせていくつ3

◎ たしざんのしきをつくろう



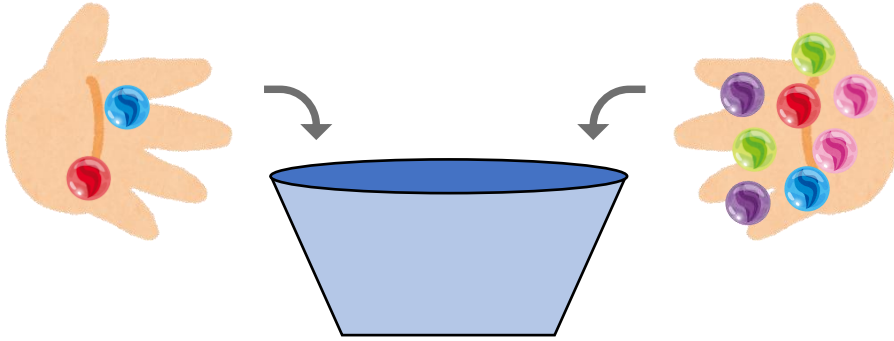
日にち： 月 日

名まえ _____

・ しきにかいてこたえましょう。(うすいじはなぞりましょう。)

① びいだまを 2 こと 8 こ いれます。

あわせてなんこになりますか。




しき $2 + 8 = 10$

こたえ 10 こ

② くろいねこが 4 ひき、しろいねこが 3 ひき います。

ねこはぜんぶでなんひき いますか。



しき $4 + 3 = 7$

こたえ 7 ひき

