



3つの  
かずのけいさん 3

たしざんとひきざんの  
まざったしき

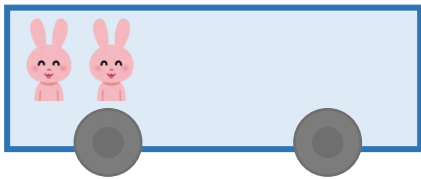


日にち： 月 日

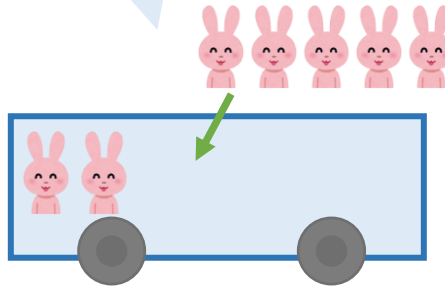
名まえ \_\_\_\_\_

うさぎは、なんびきになりましたか。

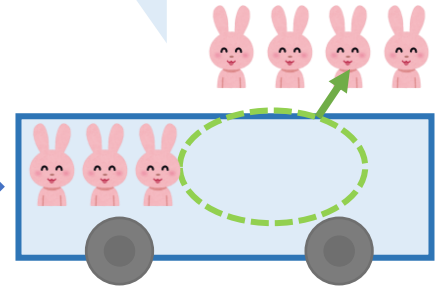
2ひきのっています。



5ひきのりました。




4ひきおりました。



☆1つのしきにあらわしてみましよう。

しき：  $\begin{array}{c} \text{■} \text{■} \\ \square \end{array} + \begin{array}{c} \text{■} \text{■} \text{■} \text{■} \\ \square \end{array} - \begin{array}{c} \text{■} \text{■} \text{■} \\ \square \end{array} = \begin{array}{c} \text{■} \text{■} \text{■} \text{■} \\ \square \end{array}$



こたえ：  びき



3つの  
かずのけいさん 3

● たしざんとひきざんの  
まざったしき



日にち： 月 日

名まえ \_\_\_\_\_

・ うさぎは、なんびきになりましたか。(うすいじはなぞりましょう。)

2ひきのっています。

5ひきのりました。

4ひきおりました。

☆ 1つのしきにあらわしてみましよう。

しき：  $2 + 5 - 4 = 3$

7

こたえ： 3 ひき