



のこりはいくつ？

ちがいはいくつ？
(きゅうさ)



日にち： 月 日


名まえ _____

・ りんごが 8 こ あります。

みかんが 10 こ あります。

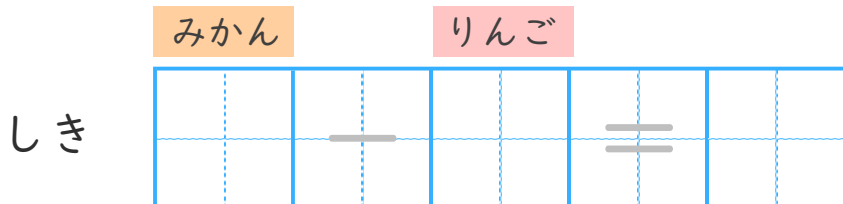
みかんは、りんごよりなんこ おおいでしょうか。

(うすいじはなぞりましょう。)



うえの としたの を
せんでおすんでみよう。

ちがいを もとめる ときも
ひきざんをつかうよ！



こたえ

| | |
|--|--|
| | |
| | |

 こ





のこりはいくつ？

ちがいはいくつ？
(きゅうさ)


4

日にち： 月 日

名まえ _____

- りんごが 8 こ あります。
- みかんが 10 こ あります。
- みかんは、りんごより なんこ おおいでしょうか。

(うすいじはなぞりましょう。)



うえの としたの を
せんでおすんでみよう。

ちがいを もとめる ときも
ひきざんをつかうよ！



| | | | | | |
|----|-----|---|-----|---|---|
| | みかん | | りんご | | |
| しき | 10 | - | 8 | = | 2 |

こたえ

| |
|---|
| 2 |
|---|

 こ

