



のこりはいくつ？

ちがいはいくつ？
(きゅうさ)



日にち： 月 日


名まえ _____

・ りんごが 8 こ あります。

みかんが 10 こ あります。

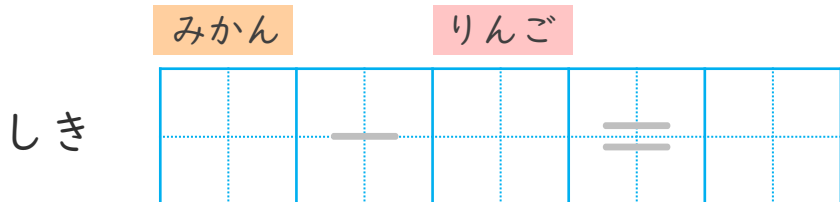
みかんは、りんごよりなんこ おおいでしょうか。

(うすいじはなぞりましょう。)



 うえの  としたの  を
せんでおすんでみよう。

ちがいを もとめる ときも
ひきざんをつかうよ！



こたえ

 こ



のこりはいくつ？

ちがいはいくつ？
(きゅうさ)


4

日にち： 月 日

名まえ _____

- りんごが 8 こ あります。
- みかんが 10 こ あります。
- みかんは、りんごより なんこ おおいでしょうか。

(うすいじはなぞりましょう。)



うえの としたの を
せんでおすんでみよう。

ちがいを もとめる ときも
ひきざんをつかうよ！



	みかん		りんご		
しき	10	-	8	=	2

こたえ

2

 こ