



のこりはいくつ 6

4

◎ どちらがいくつ おおい?

日にち： 月 日


名まえ _____

・ いぬが 4 ひき います。

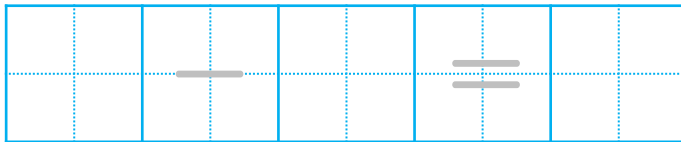
ねこが 6 ひき います。

どちらが なんびき おおい でしょうか。

(うすいじは なぞり ましょう。)



しき



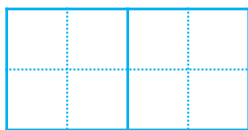
こたえかたに

ちゅうい しよう!

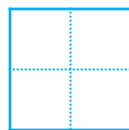


▼どちらが

こたえ



が



ひき おおい。





のこりはいくつ 6

● どちらがいくつ おおい?

4

日にち： 月 日


名まえ _____

・ いぬが 4 ひき います。

ねこが 6 ひき います。

どちらが なんびき おおい でしょうか。

(うすいじは なぞり ましょう。)



しき

$$6 - 4 = 2$$

こたえかたに

ちゅうい しよう!



▼どちらが

こたえ

ね こ

が

2

ひき おおい。

