



のこりはいくつ 4

のこりはいくつ?
(きゅうほ)



日にち： 月 日

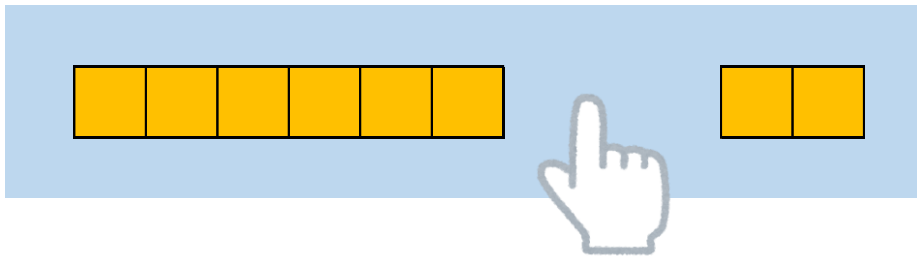
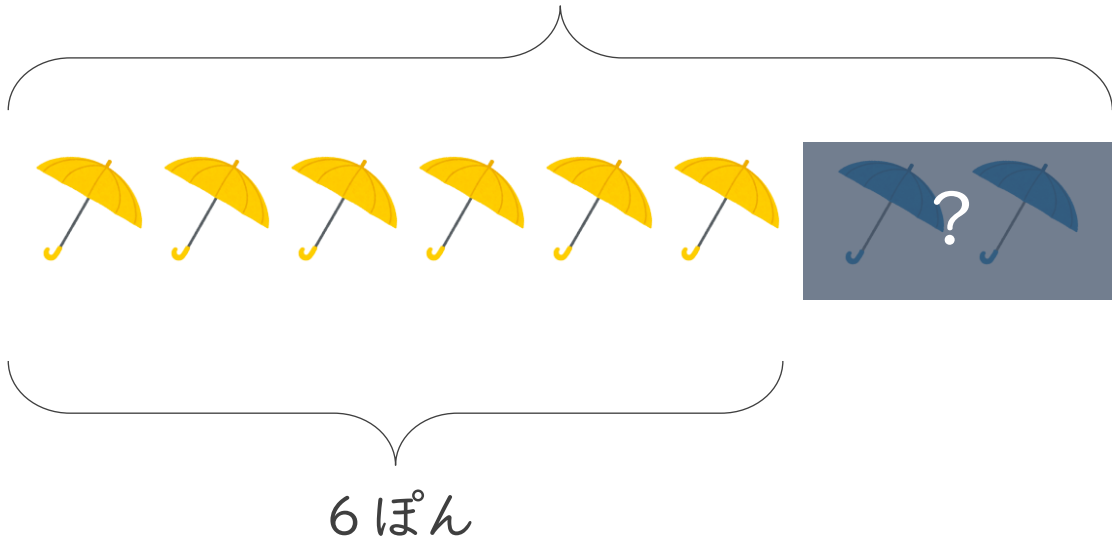
名まえ _____

・ かさが 8 ぽん あります。

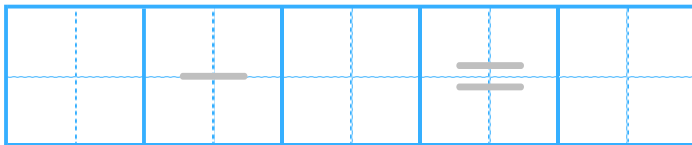
 は 6 ぽん です。  は なんぽん ありますか。

(うすいじはなぞりましょう。)

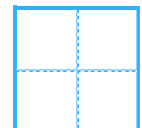
8 ぽん



しき



こたえ



ほん





のこりはいくつ 4

● のこりはいくつ?
(きゅうほ)



日にち： 月 日

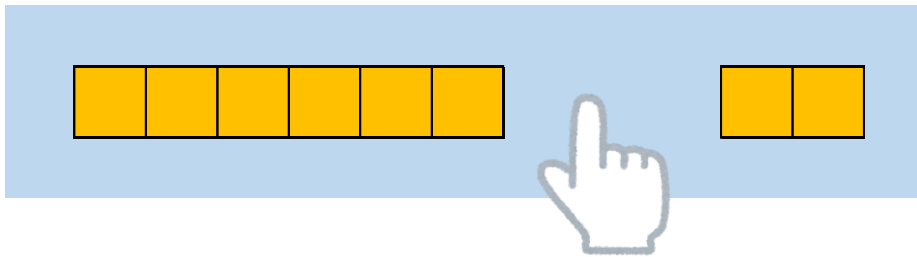
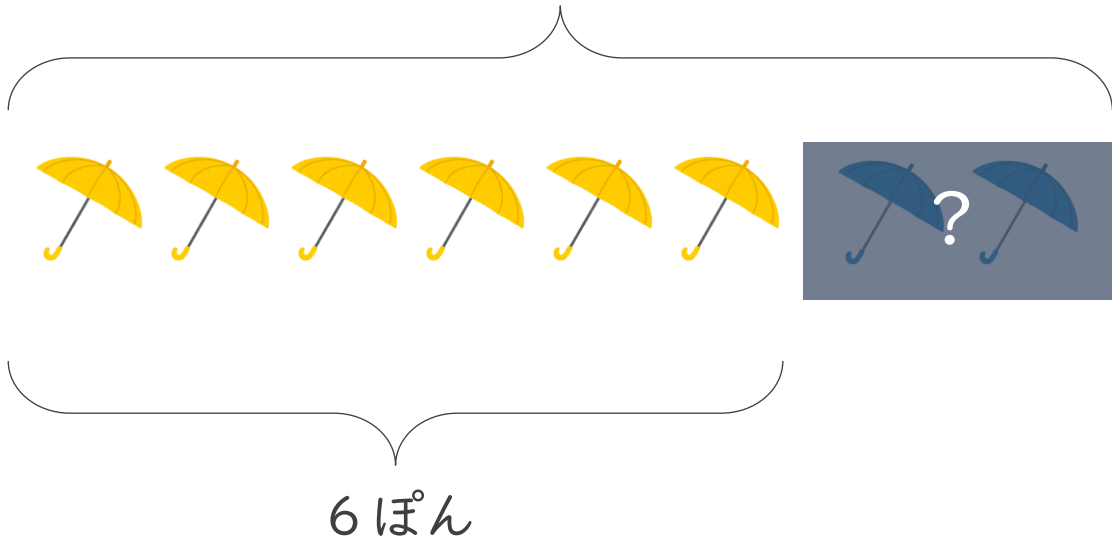
名まえ _____

・ かさが 8 ぽん あります。

 は 6 ぽん です。  は なんぽん ありますか。

(うすいじはなぞりましょう。)

8 ぽん



しき

$$8 - 6 = 2$$

こたえ

2

ほん

