



くりさがりのある
ひきざん！


● のこりはいくつ？
(えをみてかんがえよう)



日にち： 月 日

名まえ _____

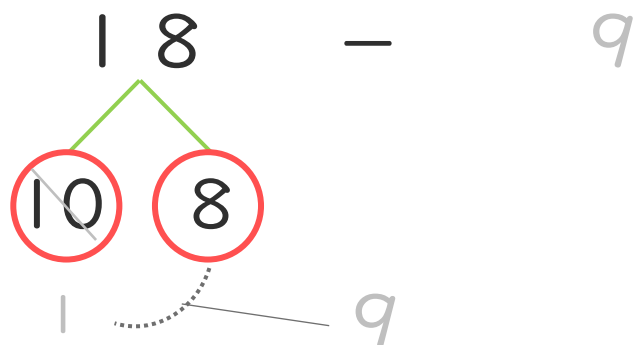
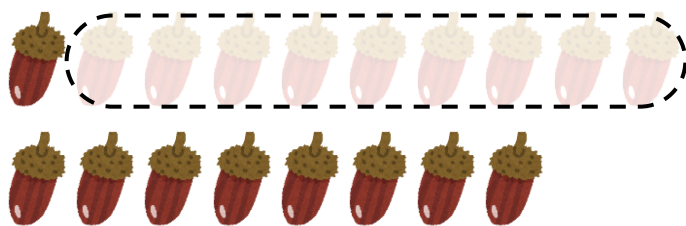
- どんぐりが18こあります。ともだちに9こあげました。どんぐりは、なんこのこっていますか。(うすいじはなぞりましょう。)



9こあげる



- ① けいさんのしかたをかんがえましょう。



① 18は10と8

② 10 - 9 = 1

③ 1 + 8 = 9

- ② しきとこたえをかきましょう。

しき []

こたえ []





くりさがりのある
ひきざん！


● のこりはいくつ？
(えをみてかんがえよう)



日にち： 月 日

名まえ _____

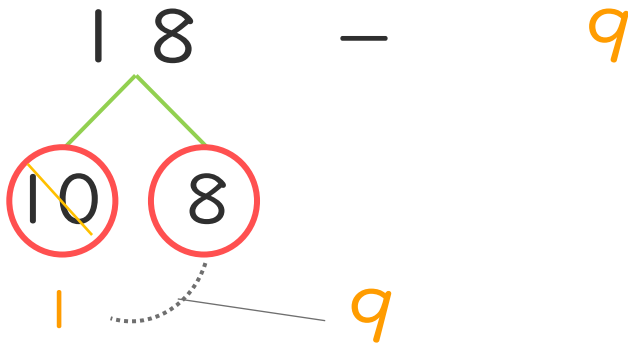
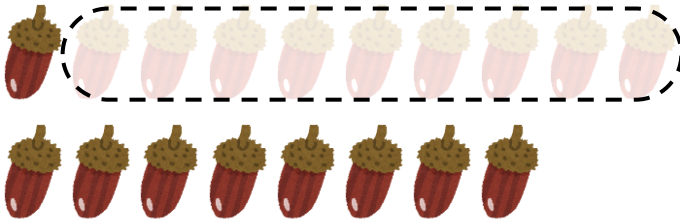
- どんぐりが 18こ あります。ともだちに 9こ あげました。どんぐりは、なんこ のこっていますか。(うすいじはなぞりましょう。)



9こ あげる



- ① けいさんの しかたを かんがえましょう。



① 18は 10と8

② 10 - 9 = 1

③ 1 + 8 = 9

- ② しきと こたえをかきましょう。

しき $\left[18 - 9 = 9 \right]$

こたえ $\left[9こ \right]$

