



のこりはいくつ 8

ひきざんのけいさん

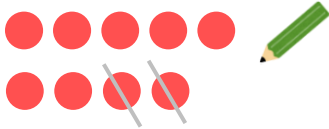
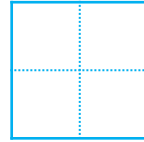


日にち： 月 日

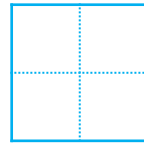
名まえ _____

- ひきざんをしましょう。(うすいところはなぞりましょう。)


① $9 - 2 =$



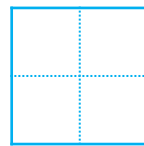
② $2 - 1 =$



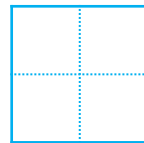
③ $8 - 6 =$



④ $7 - 3 =$



⑤ $6 - 4 =$





のこりはいくつ 8

ひきざんの けいさん

4


日にち： 月 日

名まえ _____

- ひきざんを しまししょう。(うすいところは なぞりまししょう。)

① $9 - 2 =$

7



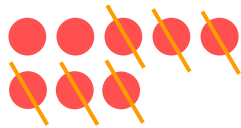
② $2 - 1 =$

1




③ $8 - 6 =$

2



④ $7 - 3 =$

4



⑤ $6 - 4 =$

2

