




どちらがおおい③

● コップで なんばい
はいりますか？


4

日にち： 月 日


名まえ _____

・ みずが  のかずだけはいります。


① あ




② い




③ う




①  で なんばい はいりますか。

① あ... はい ② い... はい ③ う... はい

② ①と②では、どちらがどれだけおおくはいりますか。

のほうが、 で はいぶん おおく はいる。

③ ①と③では、どちらがどれだけおおくはいりますか。

のほうが、 で はいぶん おおく はいる。






どちらがおおい③

● コップで なんばい
はいりますか？




日にち： 月 日


名まえ _____

・ みずが  のかずだけはいります。


① あ




② い



③ う



①  で なんばい はいりますか。

① あ... **6** はい い... **8** はい う... **9** はい

② ①と②では、どちらがどれだけおおくはいりますか。

② (い)のほうが、 で **2** はいぶん おおく はいる。

③ ①と③では、どちらがどれだけおおくはいりますか。

③ (う)のほうが、 で **3** はいぶん おおく はいる。

