



おおきいかず 14

十のたばのたしざん

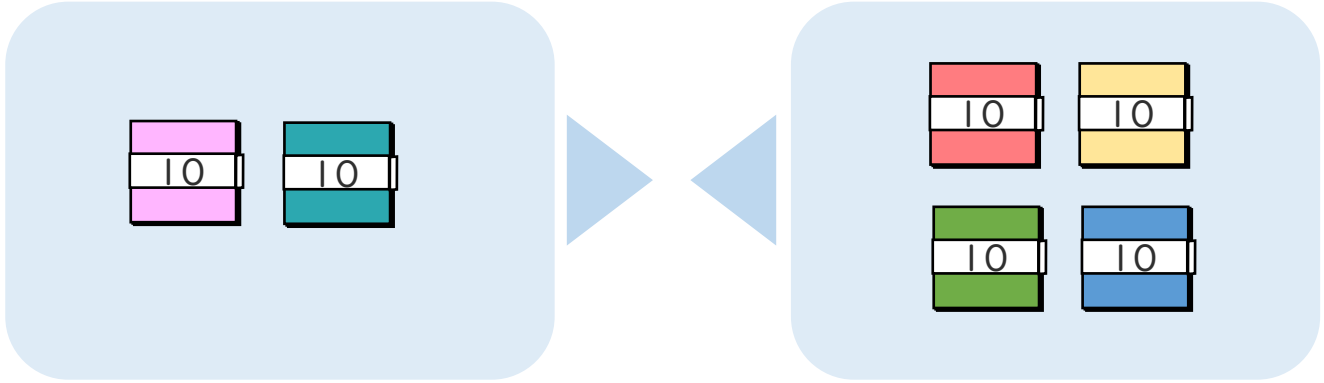


日にち： 月 日

名まえ _____

・ □ にかずをかきましょう。(うすいじはなぞりましょう。)

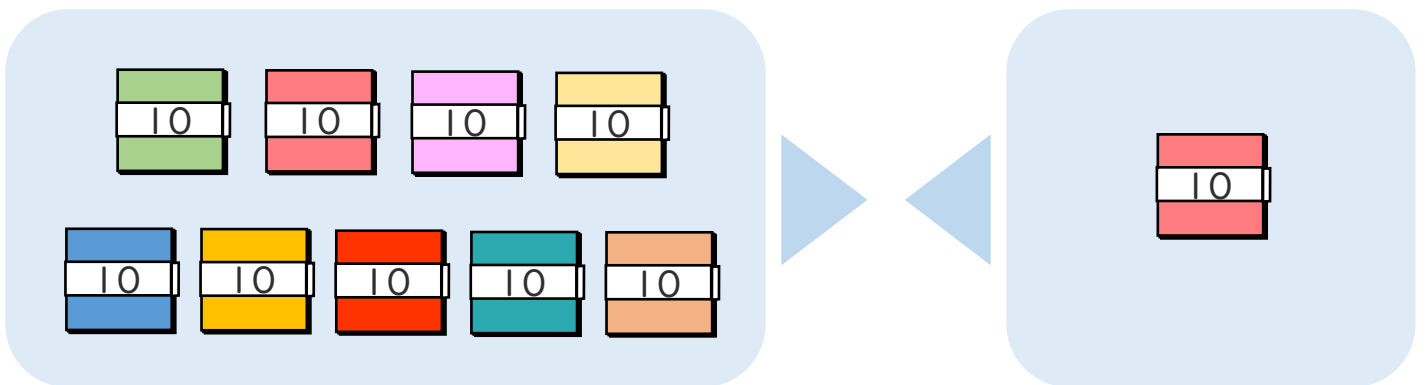
① $20 + 40$ の こたえは いくつですか。



10のたばが $2 + \square = \square$ で \square こだから

$$20 + 40 = \square$$

② $90 + 10$ の こたえは いくつですか。



10のたばが $9 + \square = \square$ で \square こだから

$$90 + 10 = \square$$





おおきいかず 14

十のたばのたしざん

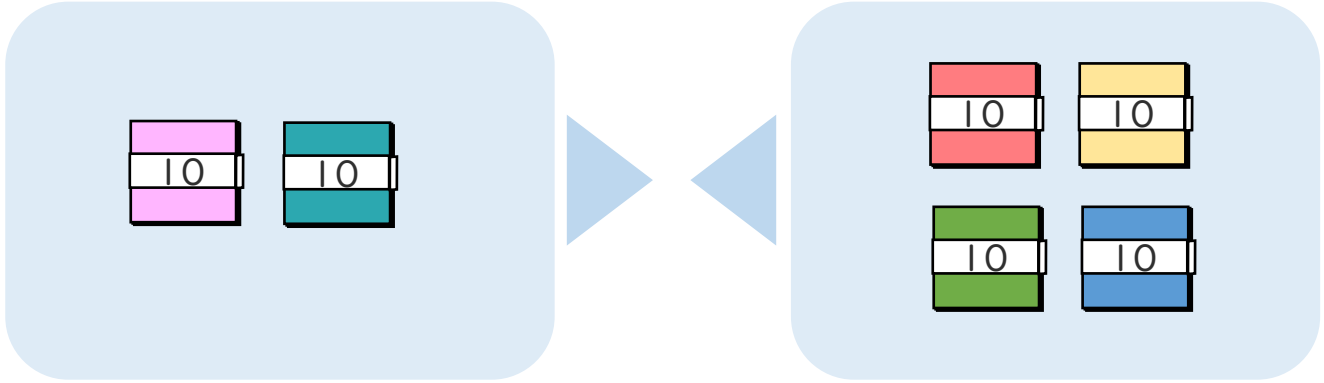


日にち： 月 日

名まえ _____

・ □ にかずをかきましょう。(うすいじはなぞりましょう。)

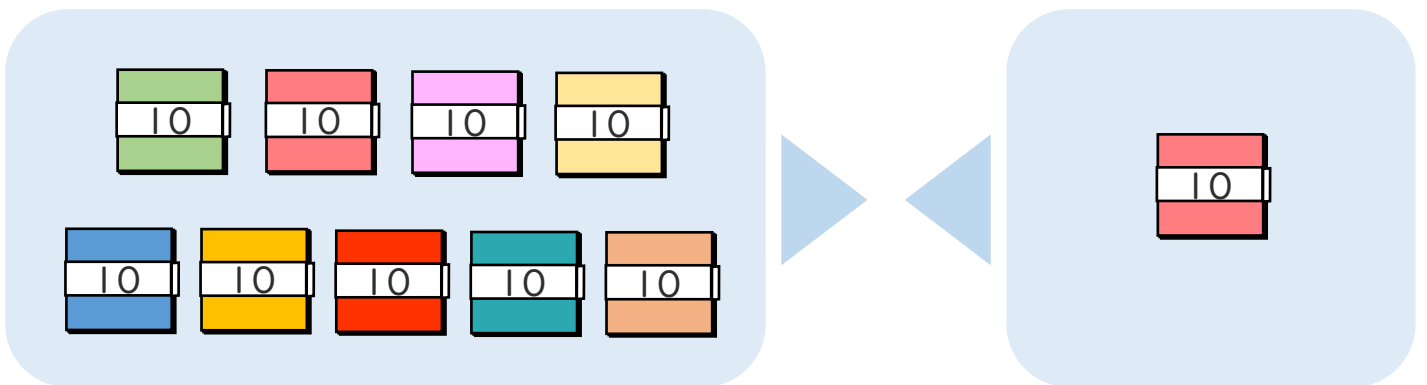
① $20 + 40$ の こたえは いくつですか。



10のたばが $2 + 4 = 6$ で 6 こだから

$$20 + 40 = 60$$

② $90 + 10$ の こたえは いくつですか。



10のたばが $9 + 1 = 10$ で 10 こだから

$$90 + 10 = 100$$

