



おおきいかず 17

十のたばのひきざん

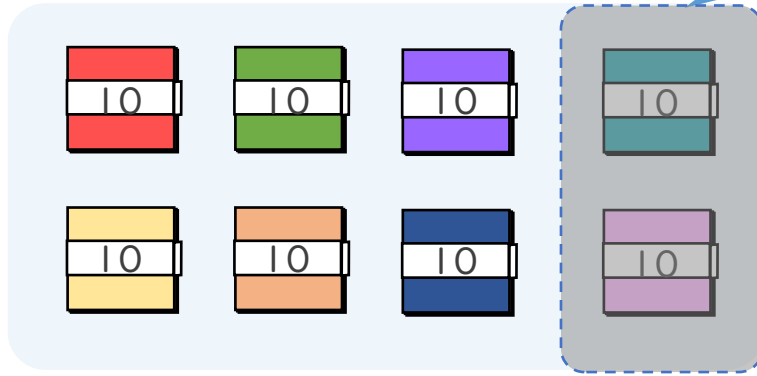


日にち： 月 日

名まえ _____

・ □ にかずをかきましょう。(うすいじはなぞりましょう。)

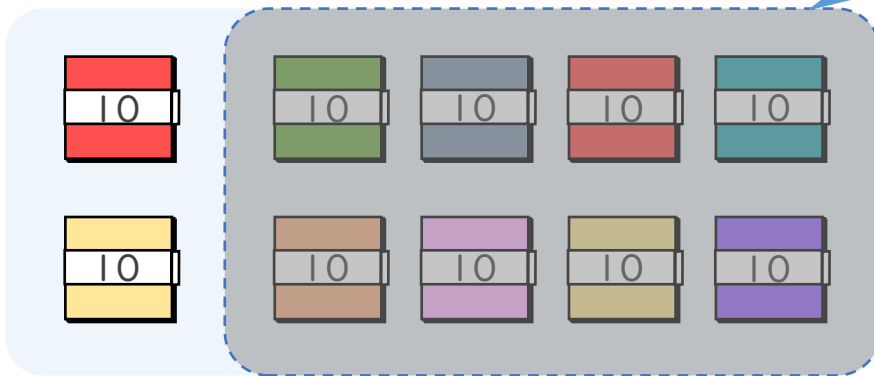
① 80-20の こたえはいくつですか。



10のたばが 8 - □ = □ で □ こだから

$$80 - 20 = \square$$

② 100-80の こたえはいくつですか。



10のたばが □ - □ = □ で □ こだから

$$100 - 80 = \square$$





おおきいかず 17

十のたばのひきざん

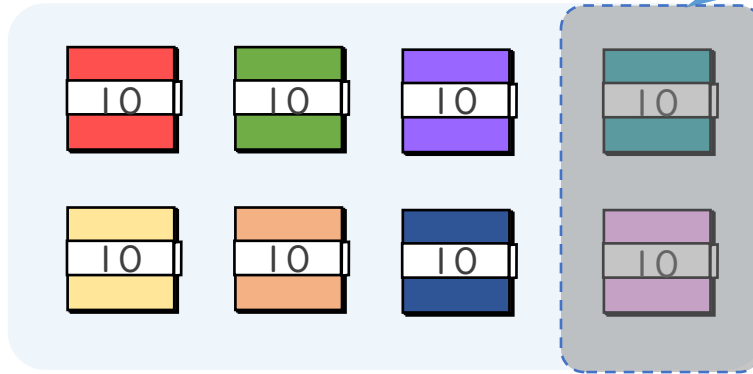


日にち： 月 日

名まえ _____

・ □ にかずをかきましょう。(うすいじはなぞりましょう。)

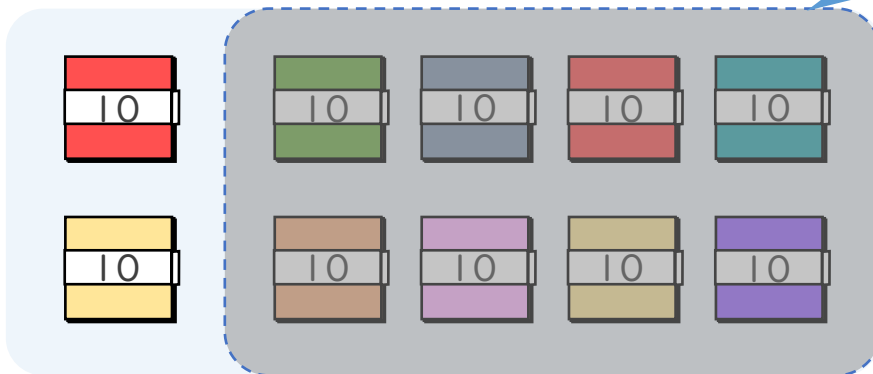
① $80 - 20$ の こたえは いくつですか。



10のたばが $8 - 2 = 6$ で 6 こだから

$$80 - 20 = 60$$

② $100 - 80$ の こたえは いくつですか。



10のたばが $10 - 8 = 2$ で 2 こだから

$$100 - 80 = 20$$

