



くりあがりのある
たしざん ⑧


● えとぶんしょうから
しきをつくろう




日にち： 月 日

名まえ _____

1 さかなは あわせて なんびき ですか。しきをかきましょう。




2 ひき




9 ひき

しき： + =

2 とりは あわせて なんわ ですか。しきをかきましょう。



9 わ



7 わ

しき： + =





くりあがりのある
たしざん ⑧


● えとぶんしょうから
しきをつくろう

4


日にち： 月 日

名まえ _____

1 さかなは あわせて なんびき ですか。しきをかきましょう。




2 ひき




9 ひき

しき： $\boxed{2} + \boxed{9} = \boxed{11}$

2 とりは あわせて なんわ ですか。しきをかきましょう。



9 わ



7 わ

しき： $\boxed{9} + \boxed{7} = \boxed{16}$

