



のこりはいくつ 10

◎ 0のひきざん

4

日にち： 月 日

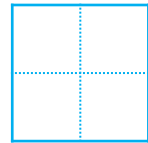
名まえ _____

- ・ かあどを 4まいもっています。
のこりの かあどは なんまいですか。

① 1まいも ださないと



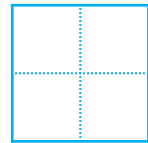
$$4 - 0 =$$



② 1まい だすと



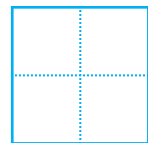
$$4 - 1 =$$



③ 4まい だすと



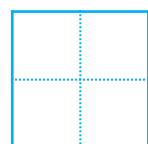
$$4 - 4 =$$



④ 3まい だすと



$$4 - 3 =$$





のこりはいくつ 10

◎ 0のひきざん

4

日にち： 月 日

名まえ _____

- ・ かあどを 4まい もっています。
のこりの かあどは なんまいですか。

① 1まいも ださないと



$$4 - 0 = \boxed{4}$$

② 1まい だすと




$$4 - 1 = \boxed{3}$$

③ 4まい だすと



$$4 - 4 = \boxed{0}$$

④ 3まい だすと



$$4 - 3 = \boxed{1}$$