



あわせていくつ8

0のたしざん

4

日にち： 月 日

名まえ _____

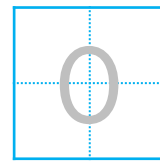
・ たまのかずをあわせるといくつでしょう。

(うすいじはなぞりましょう。)


①



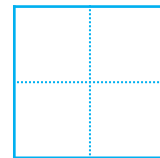
$$0 + 0 =$$



②



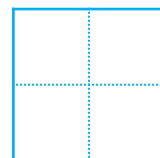
$$0 + 3 =$$



③



$$2 + 0 =$$





あわせていくつ8

0のたしざん

4

日にち： 月 日

名まえ _____

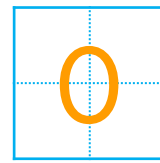
・ たまのかずをあわせるといくつでしょう。

(うすいじはなぞりましょう。)

①



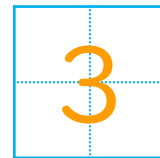
$$0 + 0 =$$



②



$$0 + 3 =$$



③



$$2 + 0 =$$

