



10より  
おおきいかず 10  
● 10といくつかをたしたしき

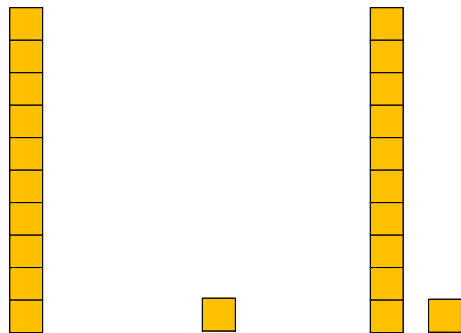
4

日にち：      月      日

名まえ \_\_\_\_\_


・  にかずをかきましょう。

① 10に 1 を たした かずは  です。



$$\text{しき} : 10 + 1 =$$

② 10に 8 を たした かずは  です。



$$\text{しき} : 10 + 8 =$$





10より  
おおきいかず 10  
● 10といくつかをたしたしき

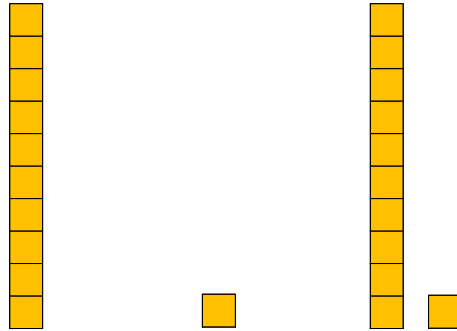
4

日にち： 月 日

名まえ \_\_\_\_\_


・ □ にかずをかきましょう。

① 10に 1 を たした かずは 11 です。



$$\text{しき} : 10 + 1 = \text{11}$$

② 10に 8 を たした かずは 18 です。



$$\text{しき} : 10 + 8 = \text{18}$$

