



10より
おおきいかず 12

4

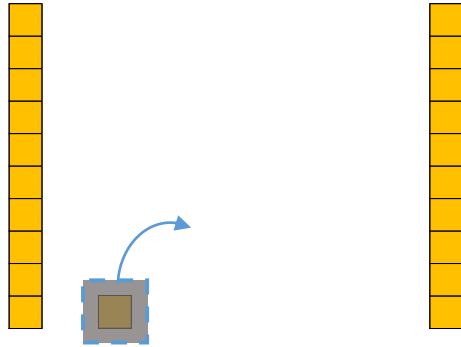
◎ 10になる ひきざん

日にち： 月 日

名まえ _____

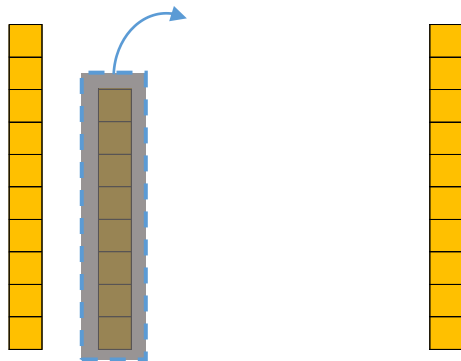
・ にかずをかきましょう。

① 11から 1をひいたかずは です。



しき： 11 - 1 =

② 18から 8をひいたかずは です。



しき： 18 - 8 =





10より
おおきいかず 12

4

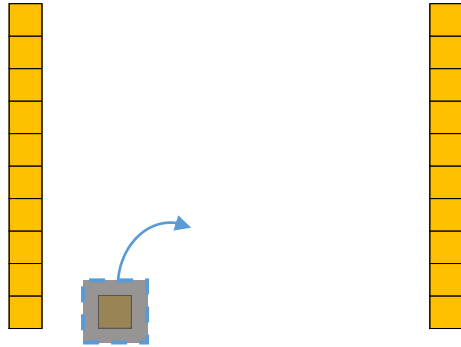
◎ 10になる ひきざん

日にち： 月 日

名まえ _____

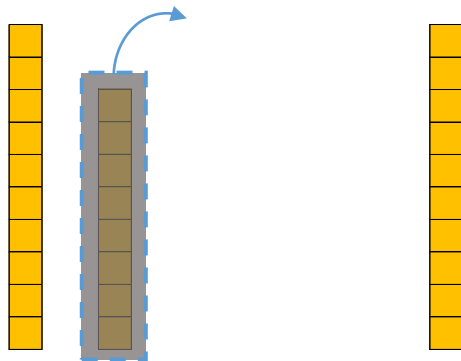
・ □ にかずをかきましょう。

① 11から 1をひいたかずは 10 です。



$$\text{しき} : 11 - 1 = \text{10}$$

② 18から 8をひいたかずは 10 です。



$$\text{しき} : 18 - 8 = \text{10}$$

