



10より  
おおきいかず 13  
● 10より おおきいかずの  
ひきざん

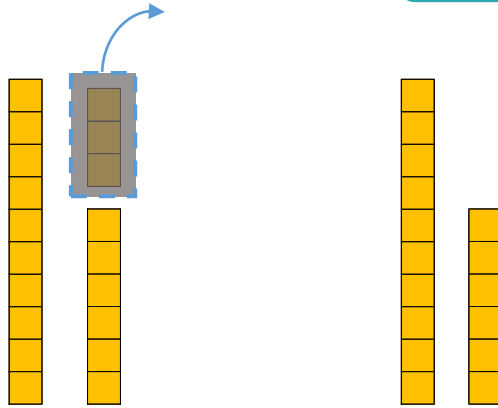
4

日にち：            月            日

名まえ \_\_\_\_\_

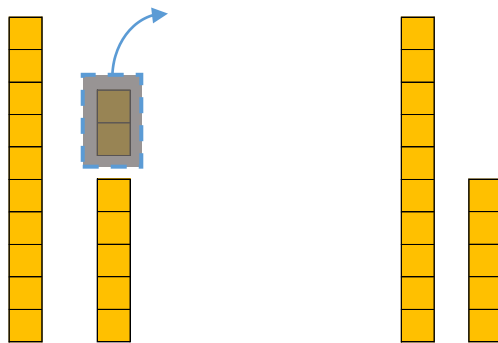
・ □ にかずをかきましょう。

① 19から 3をひいたかずは □ です。



$$\text{しき} : 19 - 3 = \square$$

② 17から 2をひいたかずは □ です。



$$\text{しき} : 17 - 2 = \square$$



10より  
おおきいかず 13  
● 10より おおきいかずの  
ひきざん

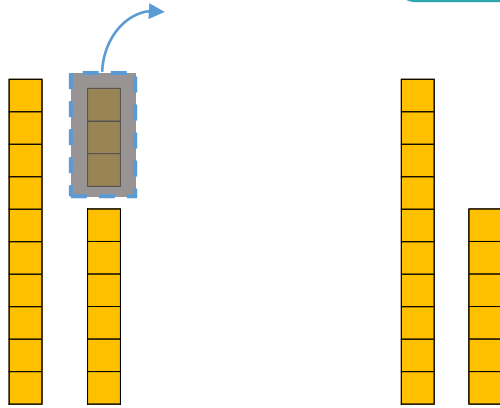
4

日にち：            月            日

名まえ \_\_\_\_\_

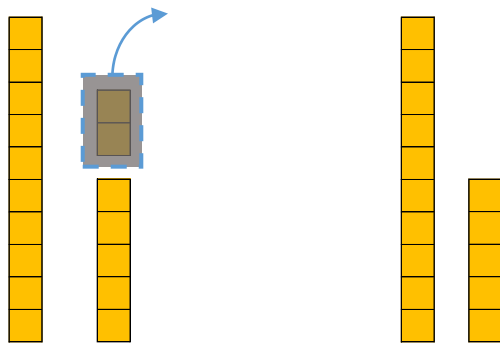
・ □ にかずをかきましょう。

① 19から 3をひいたかずは 16 です。



$$\text{しき} : 19 - 3 = 16$$

② 17から 2をひいたかずは 15 です。



$$\text{しき} : 17 - 2 = 15$$

