



おおきいかず 13

◎ 2けたと1けたのたしざん

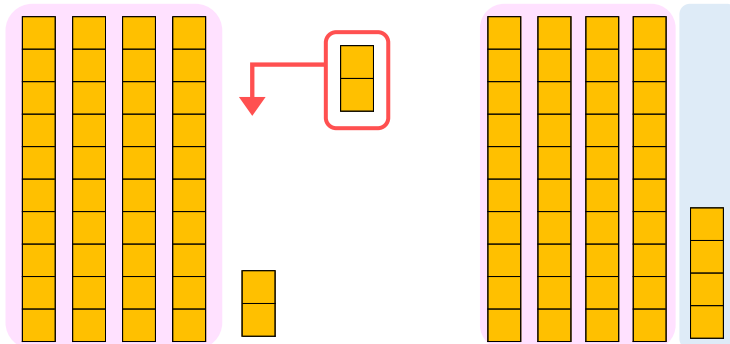


日にち： 月 日

名まえ _____

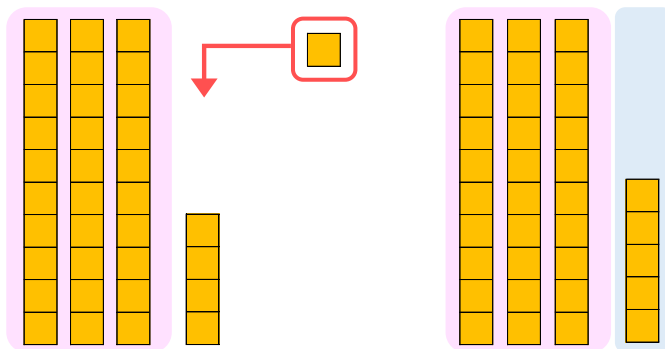
- にかずをかきましょう。(うすいじはなぞりましょう。)

① 42に2をたしたかずは です。



$$\text{しき} : 42 + 2 = \square$$

② 34に1をたしたかずは です。



$$\text{しき} : 34 + 1 = \square$$



おおきいかず 13

◎ 2けたと1けたのたしざん

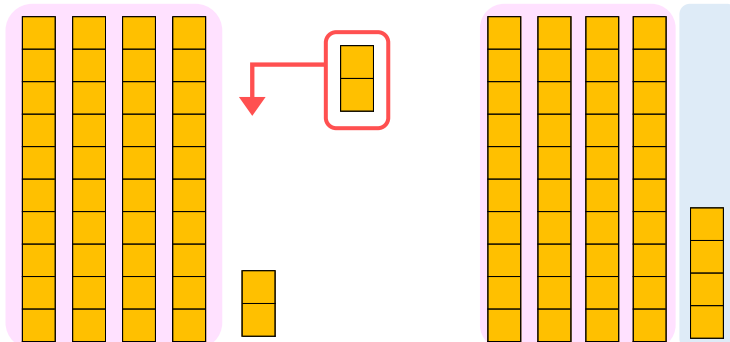
4

日にち： 月 日

名まえ _____

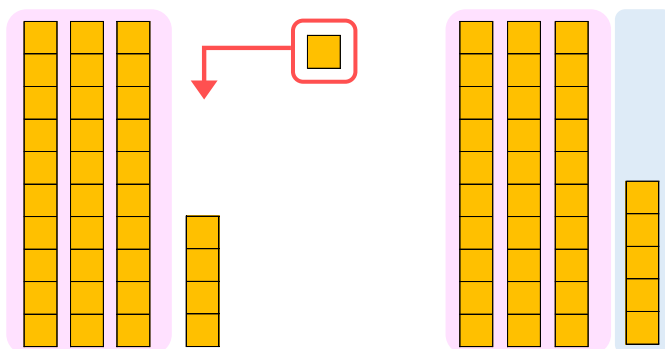
- にかずをかきましょう。(うすいじはなぞりましょう。)

① 42に2をたしたかずは **44** です。



$$\text{しき} : 42 + 2 = 44$$

② 34に1をたしたかずは **35** です。



$$\text{しき} : 34 + 1 = 35$$

