

おおきいかず 16

2けたと1けたのひきざん

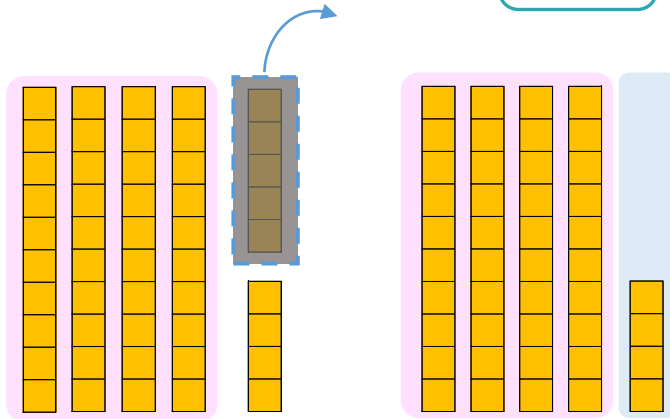


日にち： 月 日

名まえ _____

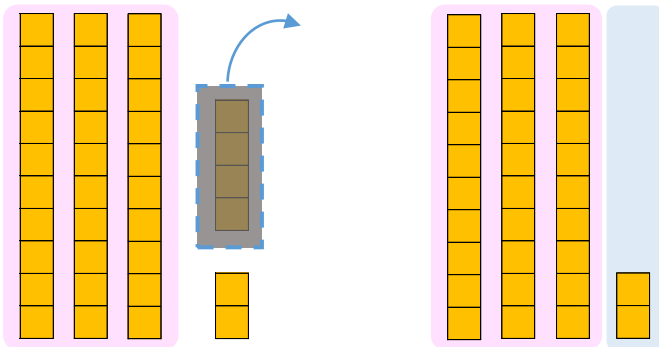
- にかずをかきましょう。(うすいじはなぞりましょう。)

① 49から5をひいたかずは です。



$$\text{しき： } 49 - 5 = \text{ }$$

② 36から4をひいたかずは です。



$$\text{しき： } 36 - 4 = \text{ }$$





おおきいかず 16

2けたと1けたのひきざん

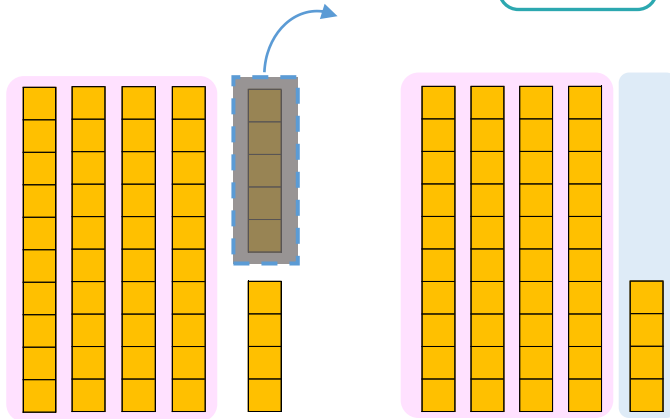
4

日にち： 月 日

名まえ _____

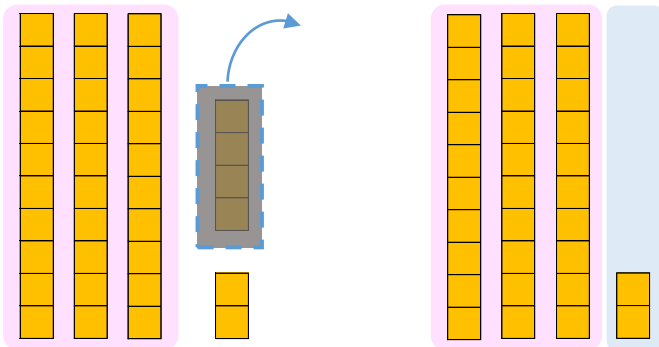
- にかずをかきましょう。(うすいじはなぞりましょう。)

① 49から5をひいたかずは **44** です。



$$\text{しき： } 49 - 5 = 44$$

② 36から4をひいたかずは **32** です。



$$\text{しき： } 36 - 4 = 32$$

