



3つの かずのけいさん 2

3つのかずのひきざんをしきにあらわしてみよう



日にち： 月 日

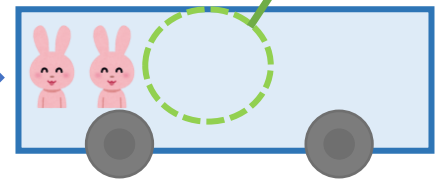
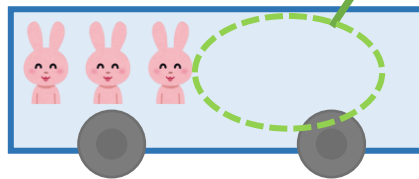
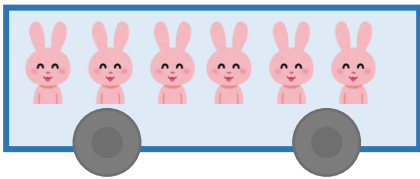
名まえ _____

うさぎは、なんびきのこっていますか。





6びきのっています。

3びきおりました。


1びきおりました。



☆1つのしきにあらわしてみましよう。

しき：  -  -  = 

- - =



こたえ： ひき



3つの かずのけいさん 2

3つのかずのひきざんを
しきにあらわしてみよう



日にち： 月 日

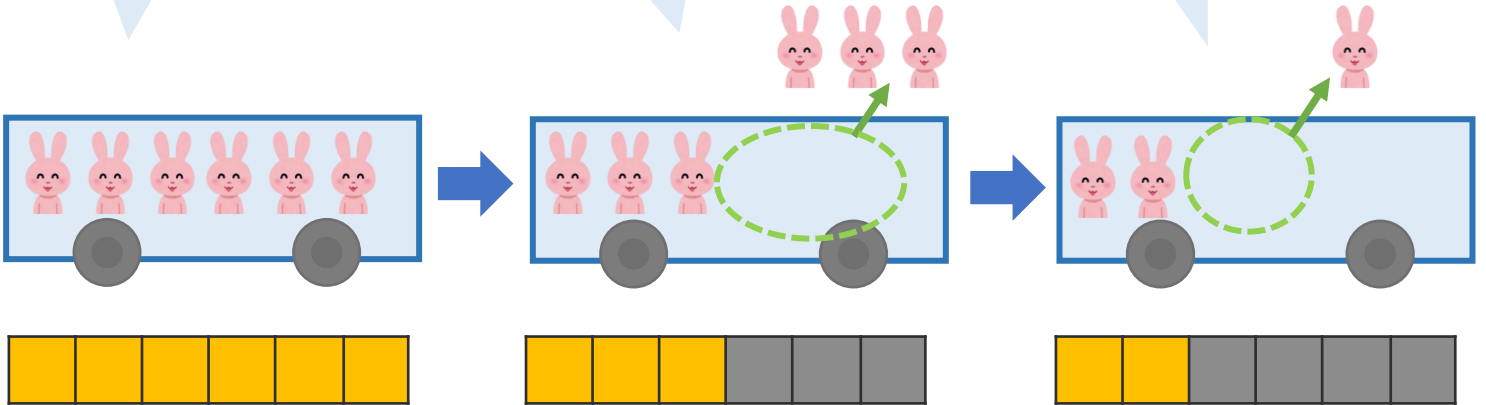
名まえ _____

うさぎは、なんびきのこっていますか。

6びきのっています。

3びきおりました。

1びきおりました。



☆1つのしきにあらわしてみましよう。

しき： $6 - 3 - 1 = 2$

3

こたえ： 2 ひき