



3つの  
かずのけいさん 4

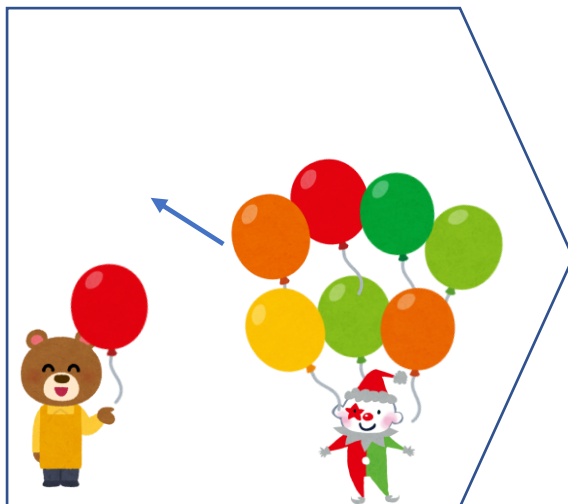

● 3つのかずのたしひきの  
ぶんしょうもんだい



日にち： 月 日

名まえ \_\_\_\_\_

1 ふうせんは、なんこになりましたか。



1こあります。

7こもらいました。

4こあげました。

しき：

こたえ：  
\_\_\_\_\_

2 みかんが 4こあります。1こたべました。

つぎのひ 2こたべました。

みかんはなんこになりましたか。

しき：

こたえ：  
\_\_\_\_\_





3つの  
かずのけいさん 4

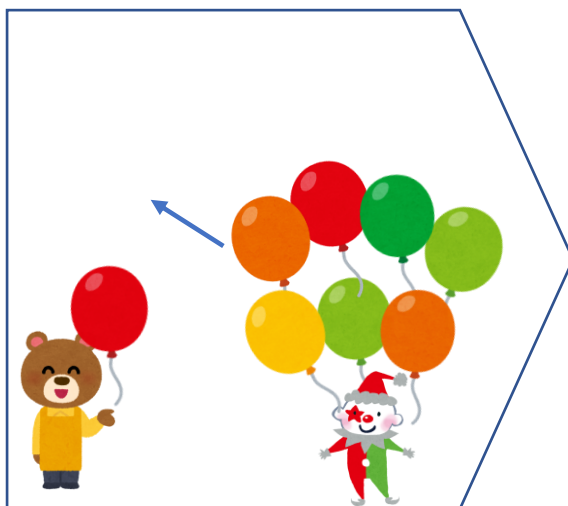

3つのかずのたしひきの  
ぶんしょうもんだい

4

日にち： 月 日

名まえ \_\_\_\_\_

1 ふうせんは、なんこになりましたか。



1こあります。

7こもらいました。

4こあげました。

しき：

$$1 + 7 - 4 = 4$$

こたえ：

4こ

2 みかんが 4こあります。1こたべました。

つぎのひ 2こたべました。

みかんはなんこになりましたか。

しき：

$$4 - 1 - 2 = 1$$

こたえ：

1こ

