



おおきいかず 12

● 30と5をあわせた数

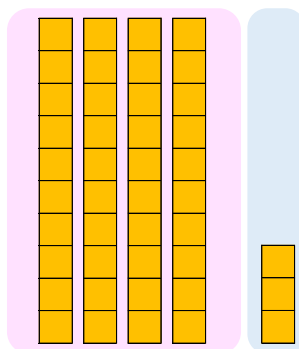
4

日にち： 月 日

名まえ _____

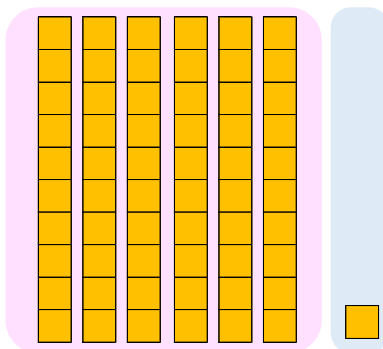
- にかずをかきましょう。(うすいじはなぞりましょう。)

① 40と3をあわせたかずは です。



$$\text{しき} : 40 + 3 = \square$$

② 60と1をあわせたかずは です。



$$\text{しき} : 60 + 1 = \square$$





おおきいかず 12

● 30と5をあわせた数

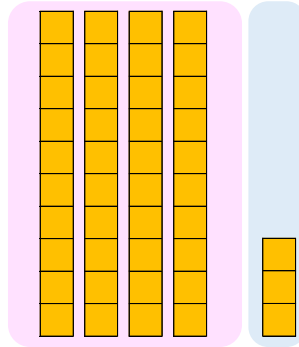


日にち： 月 日

名まえ _____

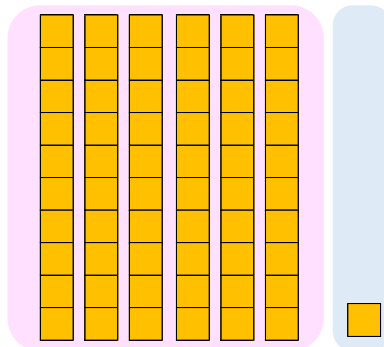
- にかずをかきましょう。(うすいじはなぞりましょう。)

① 40と3をあわせたかずは **43** です。



$$\text{しき} : 40 + 3 = \mathbf{43}$$

② 60と1をあわせたかずは **61** です。



$$\text{しき} : 60 + 1 = \mathbf{61}$$

