



あわせていくつ 4

◎ あとから ふえる




日にち： 月 日

名まえ _____

・ しきにかいて こたえましょう。

① とりが 5 わ いました。あとから 4 わ きました。

とりは ぜんぶで なんわ になりましたか。



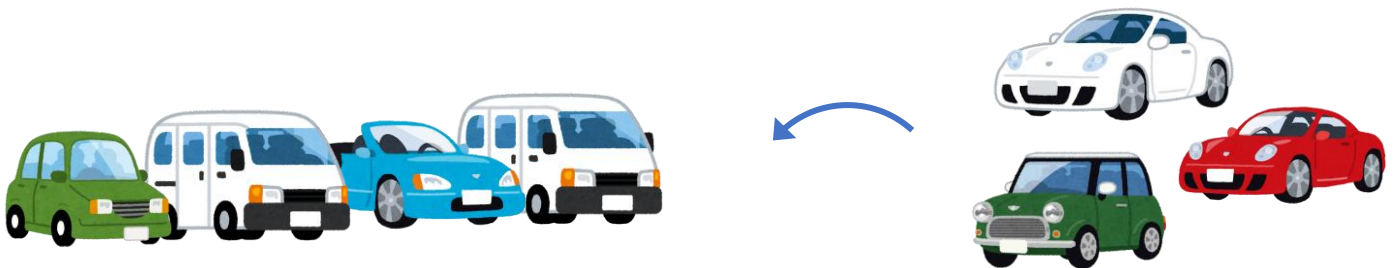
しき

こたえ

わ

② くるまが 4 だい とまっています。あとから 3 だい

きました。くるまは ぜんぶで なんだい になりましたか。



しき

こたえ

だい





あわせていくつ4

◎ あとからふえる



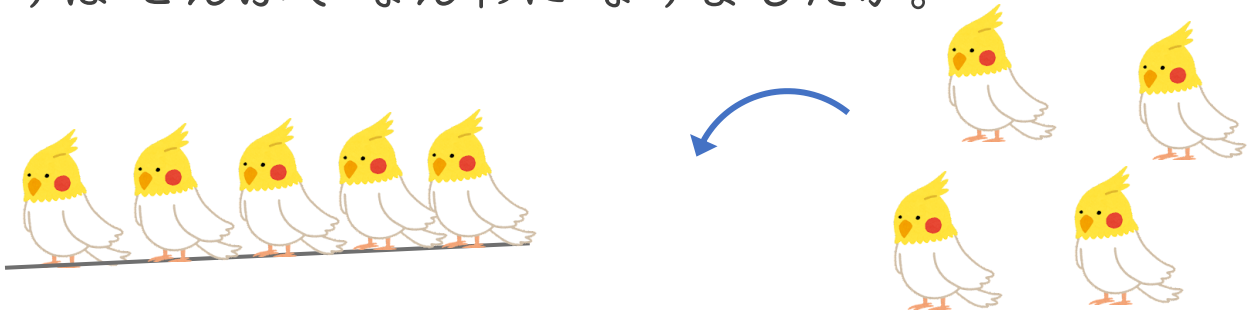
日にち： 月 日

名まえ _____

・ しきにかいてこたえましょう。

① とりが 5 わいました。あとから 4 わきました。

とりはぜんぶでなんわになりましたか。



しき

$$5 + 4 = 9$$

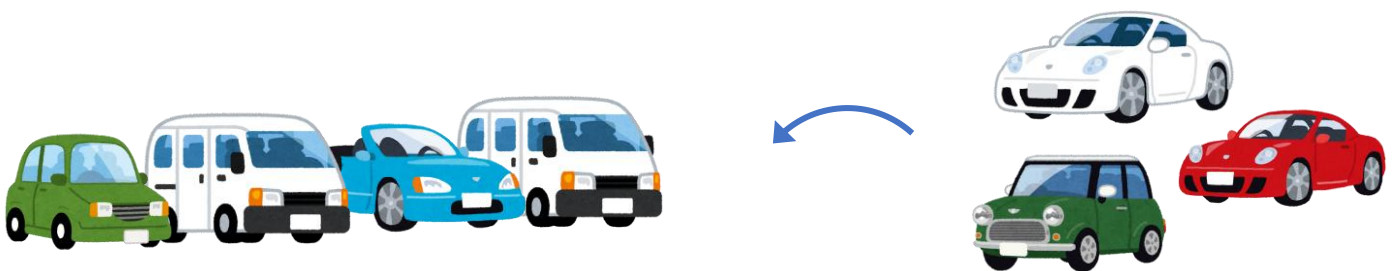
こたえ

$$9$$

わ

② くるまが 4 だいとまっています。あとから 3 だい

きました。くるまはぜんぶでなんだいになりましたか。



しき

$$4 + 3 = 7$$

こたえ

$$7$$

だい

