



のこりはいくつ！

● えをみてかんがえよう


5

日にち： 月 日

名まえ _____

・ きんぎょがいます。すくうとのこりはなんびきでしょう。

①




 ひき
いる

 ひき
すくう

 びき
のこり

②



 ひき
いる

 びき
すくう

 ひき
のこり



のこりはいくつ！

● えをみてかんがえよう



5

日にち： 月 日

名まえ _____

・ きんぎょがいます。すくうとのこりはなんびきでしょう。

①





5 ひき
いる

2 ひき
すくう

3 びき
のこり

②



7 ひき
いる

3 びき
すくう

4 ひき
のこり

