



のこりはいくつ！

● えをみてかんがえよう

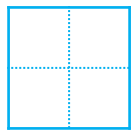


5

日にち： 月 日

名まえ _____

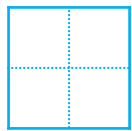
・ きんぎょがいます。すくうとのこりはなんびきでしょう。

①



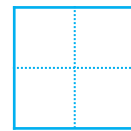
ひき

いる



ひき

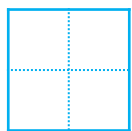

すくう



びき

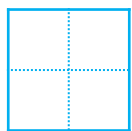
のこり

②



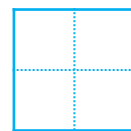
ひき

いる



びき

すくう



ひき

のこり





のこりはいくつ！

● えをみてかんがえよう


5

日にち： 月 日

名まえ _____

・ きんぎょがいます。すくうとのこりはなんびきでしょう。

①





5 ひき
いる

2 ひき
すくう

3 びき
のこり

②



7 ひき
いる

3 びき
すくう

4 ひき
のこり

