



くりあがりのある
たしざん 6

● くりあがりのけいさん
(4や3とたす)

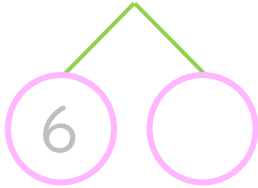


日にち： 月 日

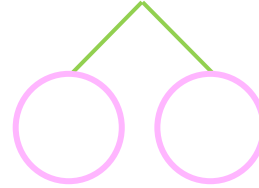
名まえ _____

・ けいさんをしましょう。(うすいじはなぞりましょう。)

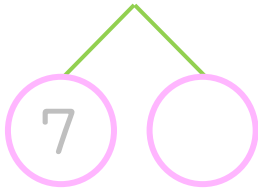
① $4 + 7 = \square$



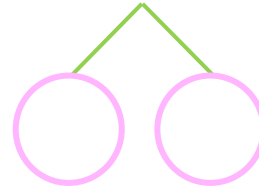
⑤ $3 + 8 = \square$



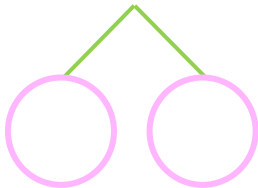
② $3 + 9 = \square$



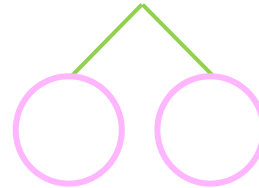
⑥ $4 + 9 = \square$



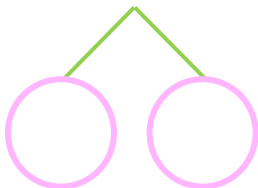
③ $4 + 8 = \square$



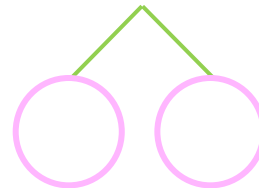
⑦ $4 + 7 = \square$



④ $4 + 9 = \square$



⑧ $3 + 8 = \square$





くりあがりのある
たしざん 6

● くりあがりのけいさん
(4や3とたす)



日にち： 月 日

名まえ _____

・ けいさんをしましょう。(うすいじはなぞりましょう。)

① $4 + 7 = \boxed{11}$
10 6 1

⑤ $3 + 8 = \boxed{11}$
10 7 1

② $3 + 9 = \boxed{12}$
10 7 2

⑥ $4 + 9 = \boxed{13}$
10 6 3

③ $4 + 8 = \boxed{12}$
10 6 2

⑦ $4 + 7 = \boxed{11}$
10 6 1

④ $4 + 9 = \boxed{13}$
10 6 3

⑧ $3 + 8 = \boxed{11}$
10 7 1

