



くりあがりのある
たしざん 4

● くりあがりのけいさん
(7とたす)

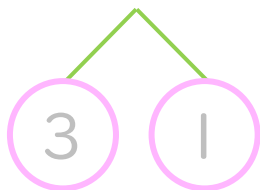


日にち： 月 日

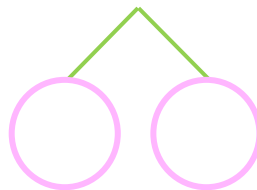
名まえ _____

・ けいさんをしましょう。(うすいじはなぞりましょう。)

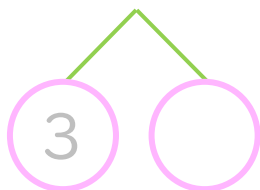
① $7 + 4 = \square$



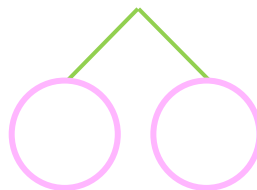
⑤ $7 + 9 = \square$



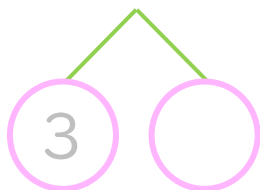
② $7 + 7 = \square$



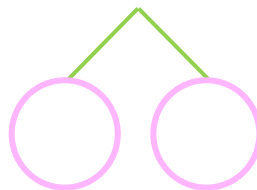
⑥ $7 + 5 = \square$



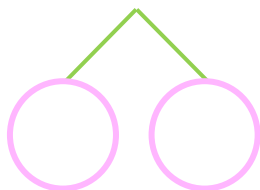
③ $7 + 6 = \square$



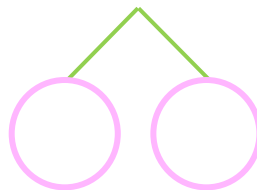
⑦ $7 + 7 = \square$



④ $7 + 8 = \square$



⑧ $7 + 4 = \square$





くりあがりのある
たしざん 4

● くりあがりのけいさん
(7とたす)



日にち： 月 日

名まえ _____

・ けいさんをしましょう。(うすいじはなぞりましょう。)

① $7 + 4 = 11$
10 3 1

⑤ $7 + 9 = 16$
10 3 6

② $7 + 7 = 14$
10 3 4

⑥ $7 + 5 = 12$
10 3 2

③ $7 + 6 = 13$
10 3 3

⑦ $7 + 7 = 14$
10 3 4

④ $7 + 8 = 15$
10 3 5

⑧ $7 + 4 = 11$
10 3 1

