



たしざんと
ひきざん 6

くりはなんこ?
(きゅうしょう)



日にち： 月 日

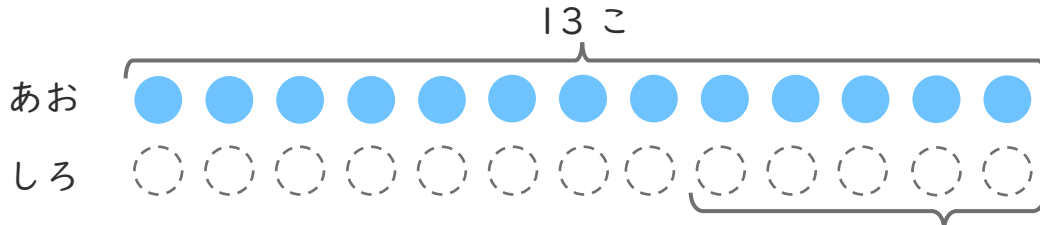
名まえ _____

1 あおいたまが 13こ あります。

しろいたまは、あおいたまより 7こ すくないそうです。

(うすいじはなぞりましょう。)

① にあうかずをかきましょう。



にいろをぬりましょう。

5こ すくない

② しろいたまはなんこ ありますか。

しき：

$$\quad - \quad = 8$$

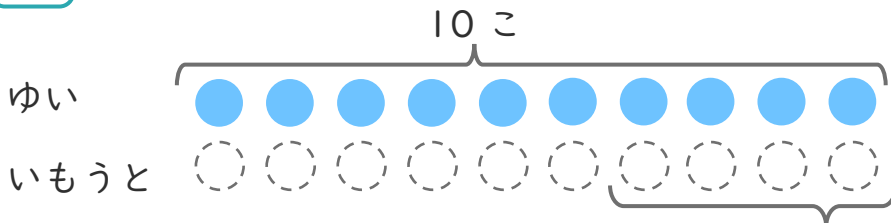
こたえ

こ

2 ゆいさんはくりを 10こ ひろいました。

いもうとは、ゆいさんより 4こ すくなかったそうです。

① にあうかずをかきましょう。



にいろをぬりましょう。

こ すくない

② いもうとは、なんこ ひろいましたか。

しき：

こたえ





たしざんと
ひきざん 6

くりはなんこ?
(きゅうしょう)



日にち： 月 日

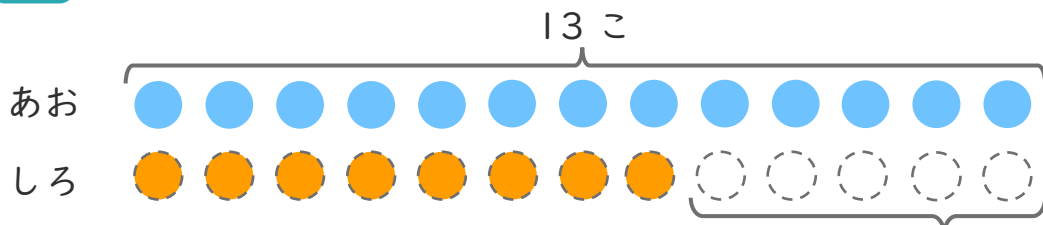
名まえ _____

1 あおいたまが 13こ あります。

しろいたまは、あおいたまより 7こ すくないそうです。

(うすいじはなぞりましょう。)

① □ にあうかずをかきましょう。



○ にいろを
ぬりましょう。

5こ すくない

② しろいたまはなんこ ありますか。

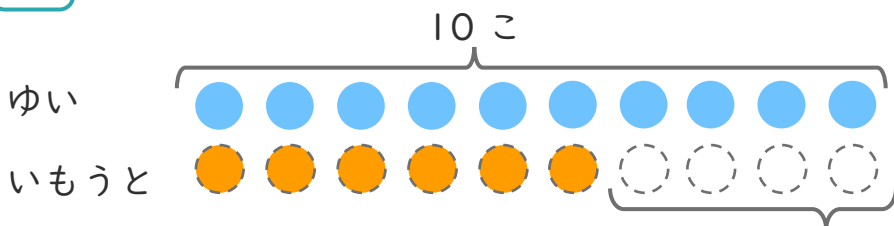
しき： $13 - 5 = 8$

こたえ { 8 こ }

2 ゆいさんはくりを 10こ ひろいました。

いもうとは、ゆいさんより 4こ すくなかったそうです。

① □ にあうかずをかきましょう。



○ にいろを
ぬりましょう。

4こ すくない

② いもうとは、なんこ ひろいましたか。

しき： $10 - 4 = 6$

こたえ { 6 こ }

