



たしざんと
ひきざん 4



● すわれないひとはなんにん？
(こすうとにんずう)

日にち： 月 日

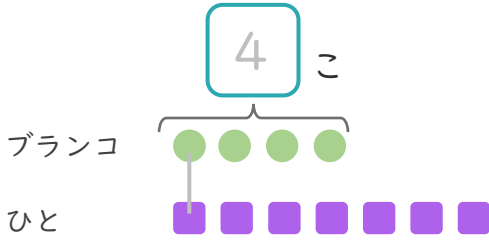
名まえ _____

1

ブランコが 4 こ あります。

7 にんが きました。(うすいじは なぞり ましょう。)

① に あう かず を かき ましょう。



● と ■ を せんで
むすび ましょう。

② ブランコにのれないひとはなんにんですか。

しき：

$$\text{---} = 3$$

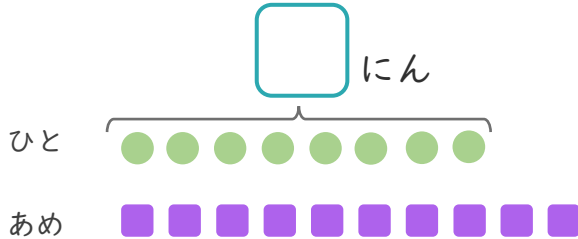
こたえ にん

2

あめが 10 こ あります。

8 にんに 1 こずつ わけました。

① に あう かず を かき ましょう。



● と ■ を せんで
むすび ましょう。

② あめは、なんこのこりますか。

しき：

$$\text{---}$$

こたえ





たしざんと
ひきざん 4



● すわれないひとはなんにん?
(こすうとにんずう)

日にち： 月 日

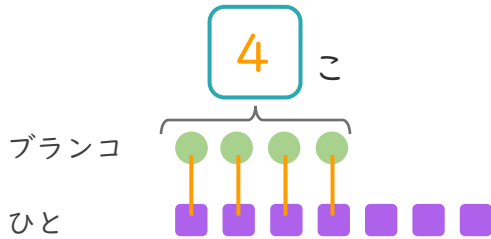
名まえ _____

1

ブランコが 4 こ あります。

7 にんが きました。(うすいじはなぞりましょう。)

① □ にあうかずをかきましょう。



● と ■ を せんで
むすびましょう。

② ブランコにのれないひとはなんにんですか。

しき： $7 - 4 = 3$

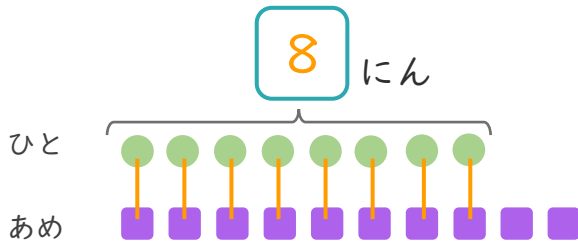
こたえ { 3 にん }

2

あめが 10 こ あります。

8 にんに 1 こずつ わけました。

① □ にあうかずをかきましょう。



● と ■ を せんで
むすびましょう。

② あめは、なんこのこりますか。

しき： $10 - 8 = 2$

こたえ { 2 こ }

