



たしざんと  
ひきざん 3

● ぜんぶでなんだい?  
(にんずうとだいすう)



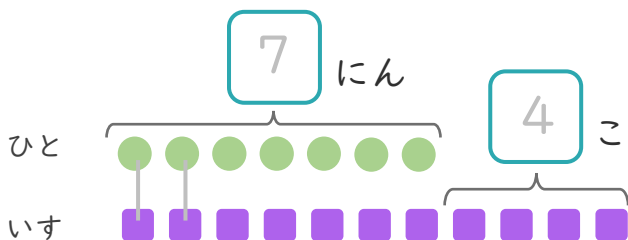
日にち： 月 日

名まえ \_\_\_\_\_

1 7にんがいすにすわっています。

いすはあと4こあります。(うすいじはなぞりましょう。)

①  にあうかずをかきましょう。



● と ■ をせんで  
むすびましょう。

② いすは、ぜんぶでなんこありますか。

しき：

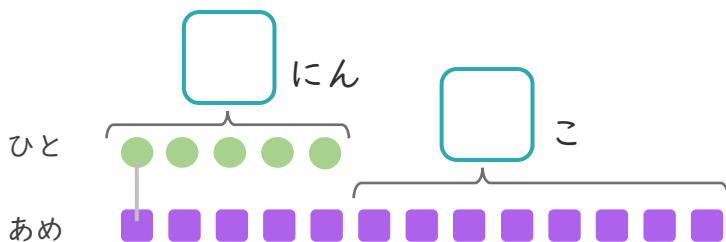
+  =

こたえ

2 5にんにあめを1こずつわけました。

あめはあと8こあります。

①  にあうかずをかきましょう。



● と ■ をせんで  
むすびましょう。

② あめは、ぜんぶでなんこありますか。

しき：

こたえ





たしざんと  
ひきざん 3

● ぜんぶでなんだい?  
(にんずうとだいすう)



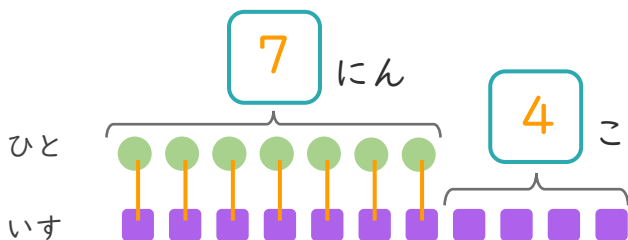
日にち： 月 日

名まえ \_\_\_\_\_

1 7にんがいすにすわっています。

いすはあと4こあります。(うすいじはなぞりましょう。)

① □にあうかずをかきましょう。



● と ■ を せんで  
むすびましょう。

② いすは、ぜんぶでなんこありますか。

しき： $7 + 4 = 11$

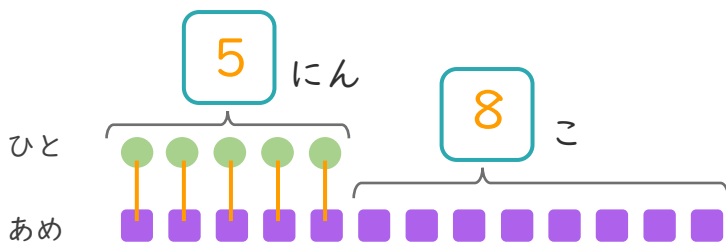
こたえ

$11$  こ

2 5にんにあめを1こずつわけました。

あめはあと8こあります。

① □にあうかずをかきましょう。



● と ■ を せんで  
むすびましょう。

② あめは、ぜんぶでなんこありますか。

しき： $5 + 8 = 13$

こたえ

$13$  こ

