



のこりはいくつ？


それぞれの かずと ちがい



日にち： 月 日

名まえ _____

1 と の かずの ちがいは なんこですか。
(うすいじは なぞりましょう。)



しき

1	0	—		=		
---	---	---	--	---	--	--

のかず

のかず

こたえ

こ

2 と の かずの ちがいは なんこですか。
(うすいじは なぞりましょう。)



しき

		—		=		
--	--	---	--	---	--	--

のかず

のかず

こたえ

こ







のこりはいくつ？


それぞれのかずとちがい



日にち： 月 日


名まえ _____

1  と  のかずのちがいはなんこですか。
(うすいじはなぞりましょう。)



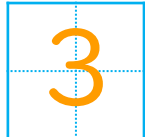
しき



$$10 - 7 = 3$$

 のかず

 のかず

こたえ


 こ

2  と  のかずのちがいはなんこですか。
(うすいじはなぞりましょう。)



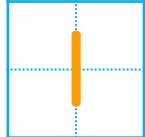
しき

$$6 - 5 = 1$$

 のかず

 のかず

こたえ

 こ

