



あわせていくつ2

たしざんのしきのかきかた

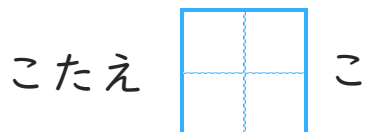
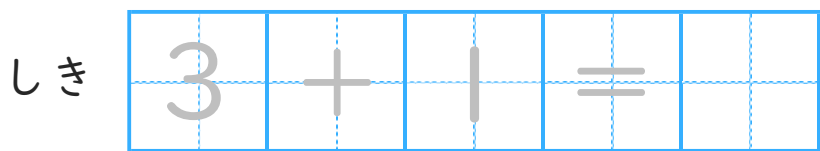
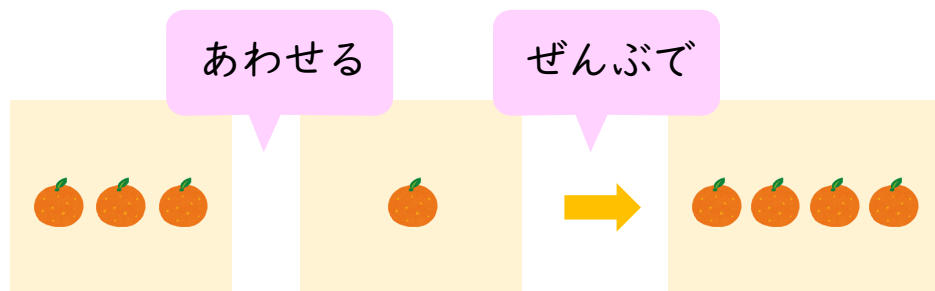


日にち： 月 日

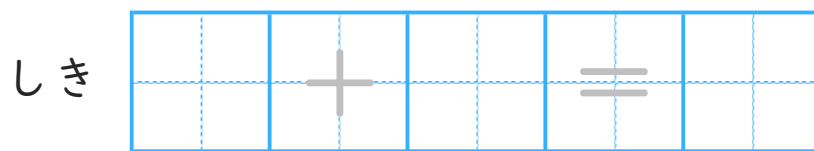
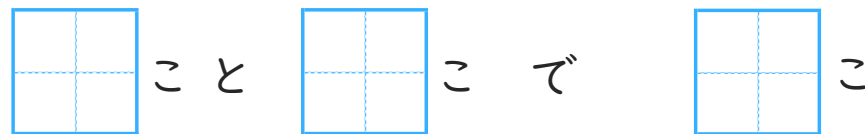
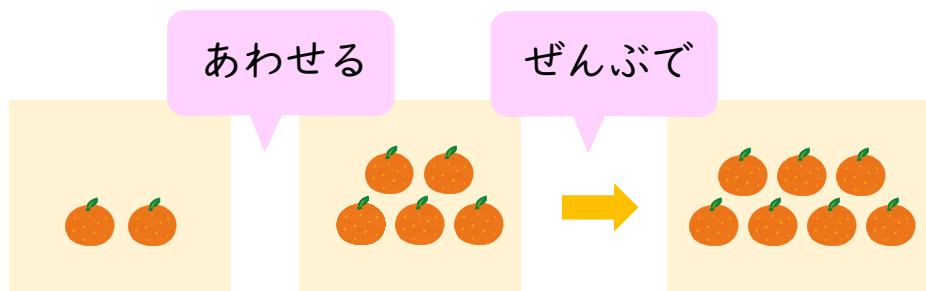
名まえ _____

・ みかんをあわせるとぜんぶでいくつになるでしょう。(うすいじはなぞりましょう。)

①



②





あわせていくつ2

たしざんのしきのかきかた

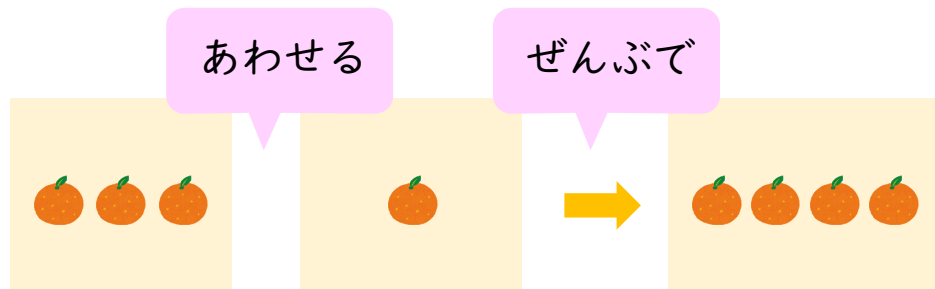


日にち： 月 日

名まえ _____

・ みかんをあわせるとぜんぶでいくつになるでしょう。(うすいじはなぞりましょう。)

①

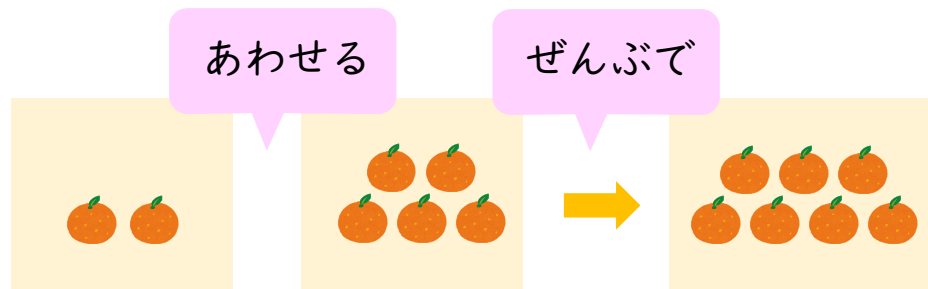


3 こと 1 こ で 4 こ

しき $3 + 1 = 4$

こたえ 4 こ

②



2 こと 5 こ で 7 こ

しき $2 + 5 = 7$

こたえ 7 こ

