



たしざんと
ひきざん 6

● どんぐりはなんこ？
(きゅうしょう)



日にち： 月 日

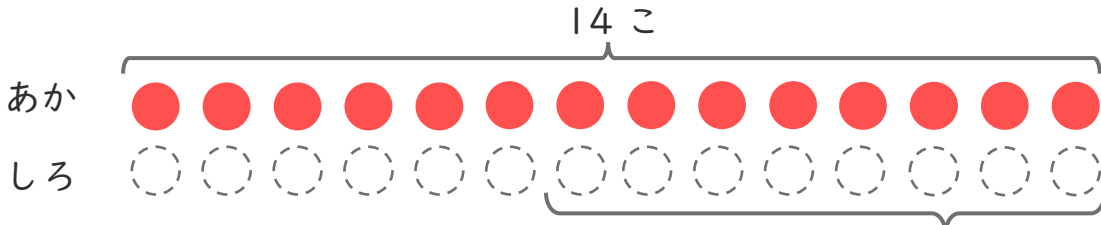
名まえ _____

1 あかいたまが 14こ あります。

しろいたまは、あかいたまより 8こ すくないそうです。

(うすいじはなぞりましょう。)

① にあうかずをかきましょう。



○にいろをぬりましょう。

8こ すくない

② しろいたまはなんこ ありますか。

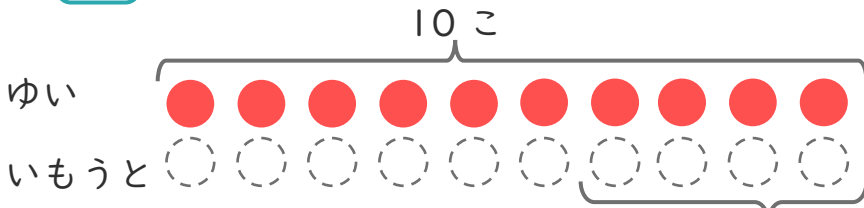
しき：

こたえ

2 ゆいさんはくりを 10こ ひろいました。

いもうとは、ゆいさんより 4こ すくなかった そうです。

① にあうかずをかきましょう。



○にいろをぬりましょう。

こ すくない

② いもうとは、なんこ ひろいましたか。

しき：

こたえ





たしざんと
ひきざん 6

● どんぐりはなんこ？
(きゅうしょう)



日にち： 月 日

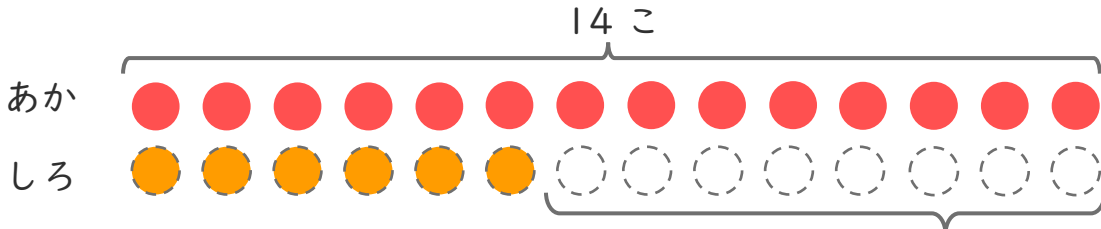
名まえ _____

1 あかいたまが 14こ あります。

しろいたまは、あかいたまより 8こ すくないそうです。

(うすいじはなぞりましょう。)

① □ にあうかずをかきましょう。



○ にいろをぬりましょう。

8 こすくない

② しろいたまはなんこ ありますか。

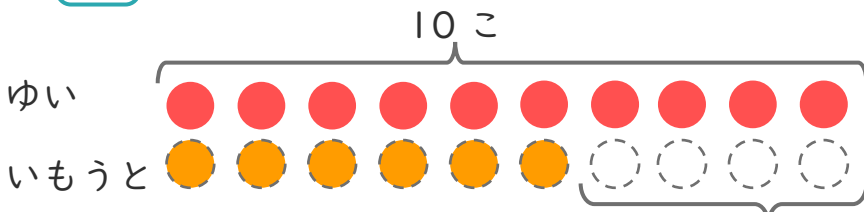
しき： $14 - 8 = 6$

こたえ { 6 こ }

2 ゆいさんはくりを 10こ ひろいました。

いもうとは、ゆいさんより 4こ すくなかった そうです。

① □ にあうかずをかきましょう。



○ にいろをぬりましょう。

4 こすくない

② いもうとは、なんこ ひろいましたか。

しき： $10 - 4 = 6$

こたえ { 6 こ }

