



のこりはいくつ 2

しきをつくろう

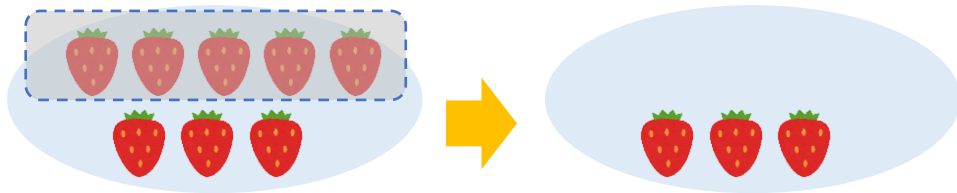


いちごが 8 こ あります。

5 こ たべました。

のこりは なんこ でしょう。

(うすいじは なぞり ましょう。)



しき

こたえ

こ

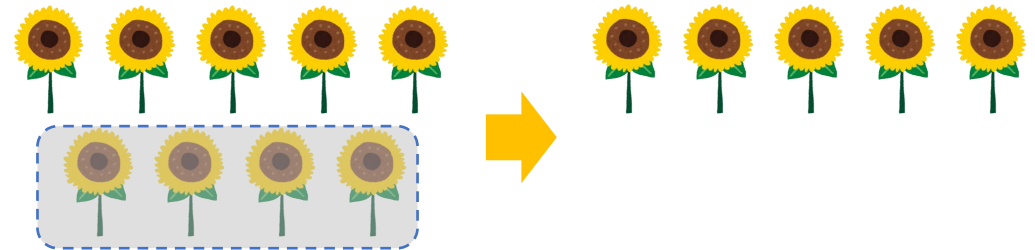
日にち： 月 日

名まえ

はなが 9 ほん あります。

4 ほん あげました。

のこりは なんほん になりましたか。



しき

こたえ

ほん





のこりはいくつ 2

しきをつくろう

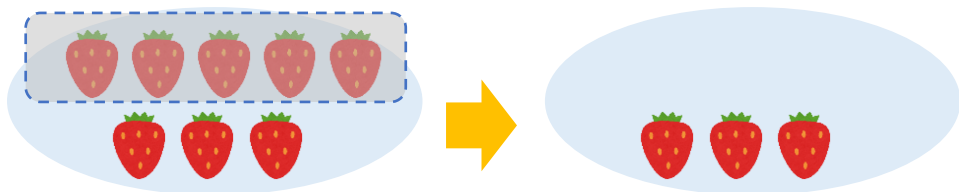
5

いちごが 8 こ あります。

5 こ たべました。

のこりは なんこ でしょう。

(うすいじは なぞり ましょう。)



しき

$$8 - 5 = 3$$

こたえ

3

こ


日にち： 月 日

名まえ

はなが 9 ほん あります。

4 ほん あげました。

のこりは なんほん になりましたか。



しき

$$9 - 4 = 5$$

こたえ

5

ほん

