



のこりはいくつ 8

● ひきざんの けいさん

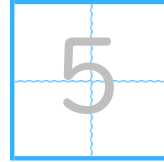


日にち： 月 日

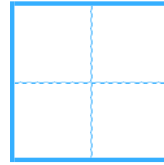
名まえ _____

- ・ ひきざんを しまししょう。(うすいじは なぞりまししょう。)

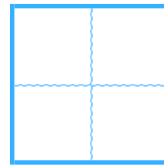
① $8 - 3 =$



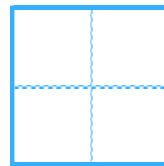
② $4 - 1 =$



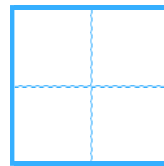
③ $9 - 5 =$



④ $7 - 6 =$



⑤ $6 - 1 =$





のこりはいくつ 8

ひきざんの けいさん



日にち： 月 日

名まえ _____

- ひきざんを しまししょう。(うすいじは なぞりまししょう。)

① $8 - 3 =$

5

② $4 - 1 =$

3

③ $9 - 5 =$

4

④ $7 - 6 =$

1

⑤ $6 - 1 =$

5
